

הקדמה כללית:

לפניכם ספר תרגילים בקורס מבוא למיקרו כלכלה. הספר הוא חלק מפרויקט חדשני וראשון מסוגו בארץ במקצוע זה, המועבר ברשת האינטרנט On-line. הקורס באתר כולל פתרונות מלאים לספר התרגילים.

הפתרונות מוגשים בסרטוני וידאו המלווים בהסבר קולי, כך שאתם רואים את התהליכים בצורה מובנית, שיטתית ופשוטה, ממש כפי שנעשה בשיעור פרטי.

את הקורס בנה מר עופר לוי, מרצה מבוקש ומחבר סדרת הספרים "כלכלה בדרך הקלה" במקצועות מיקרו כלכלה, מאקרו כלכלה ותורת המחירים, אשר לימד אלפי סטודנטים מרוצים.

אז אם אתם עסוקים מידי בעבודה, סובלים מלקויות למידה, רוצים להצטיין או פשוט אוהבים ללמוד בשקט בבית, אנחנו מזמינים אתכם לחוויית לימודים יוצאת דופן וחדשה לחלוטין, היכנסו עכשיו לאתר!

אנו מאחלים לכם הצלחה מלאה בבחינות!

צוות האתר GooL.

תוכן עניינים

- פרק 1 - עקומת תמורה ומסחר בינלאומי 3
- פרק 2 - פונקציות ייצור (הקשר בין תפוקה שולית לתפוקה ממוצעת) – הקצאת עובדים 12
- פרק 3 - מבנה הוצאות היצרן (MC, AVC, ATC) – עקומת היצע ופונקציית הוצאות 21
- פרק 4 - ביקוש ושיווי משקל בתחרות משוכללת 23
- פרק 5 - התערבות ממשלה – מס / סובסידיה 29
- פרק 6 - התערבות ממשלה – ייבוא / ייצוא 29
- פרק 7 - כשל שוק - מונופול 37
- פרק 8 - כשלי שוק אחרים 37
- פרק 9 - מדדי אי שוויון – עקומת לורנץ ומדד ג'יני שגיאה! הסימניה אינה מוגדרת.
- פרק 10 - מושגי יסוד במאקרו כלכלה 38
- פרק 11 - פונקציית הצריכה שגיאה! הסימניה אינה מוגדרת.
- פרק 12 - השקעות שגיאה! הסימניה אינה מוגדרת.
- פרק 13 - קביעת התוצר במשק סגור שגיאה! הסימניה אינה מוגדרת.
- פרק 14 - המודל המשולב - מודל קיינס עם שוק הכסף במשק סגור 49
- פרק 15 - מאזן התשלומים ושוק מטבע חוץ 67
- פרק 16 - מודל קיינס במשק פתוח 85
- פרק 17 - מונופול מפלה ולא מפלה במשק פתוח שגיאה! הסימניה אינה מוגדרת.

פרק 1

עקומת תמורה ומסחר בינלאומי

שאלות:

הערה:

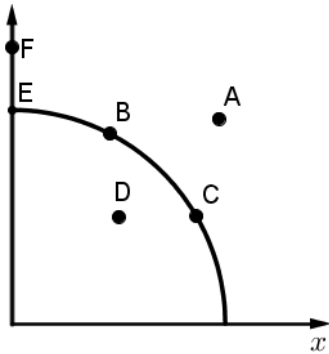
הנחת יסוד : עקומת התמורה קמורה (רגילה), אלא אם נאמר אחרת.

(1) להלן מספר טענות לגבי עקומת התמורה :

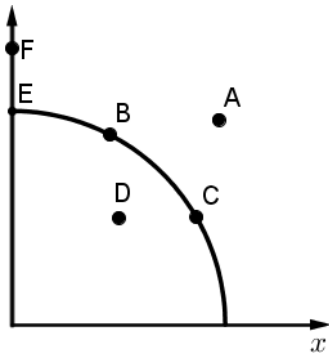
- א. עקומת התמורה תגדל (תצא החוצה) אם תקטן האבטלה במשק.
- ב. עקומת התמורה תגדל (תצא החוצה) אם המשק יעבור ממצב לא יעיל למצב יעיל.
- ג. עקומת התמורה תגדל (תצא החוצה) אם יחול שיפור טכנולוגי בייצור אחד המוצרים.
- ד. עקומת התמורה תגדל (תצא החוצה) יקטן מספר העובדים.
- ה. עקומת התמורה תגדל (תצא החוצה) אם המשק יקבל מענק מאחד המוצרים.

(2) משק מייצר את מוצר X ומוצר Y באמצעות עובדים בלבד. להלן מספר טענות לגבי המשק כאשר הוא מייצר משני המוצרים ונמצא על עקומת התמורה :

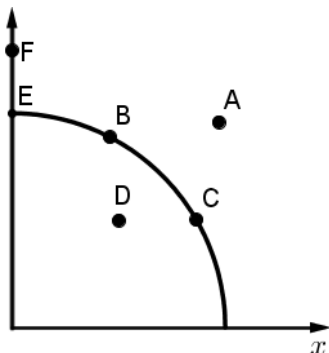
- א. המשק מייצר באופן יעיל ולכן הגדלת הייצור של מוצר X מחייבת ויתור על מוצר Y.
- ב. ההוצאה האלטרנטיבית השולית לייצור כל אחד מן המוצרים יכולה להיות חיובית או אפס.
- ג. המשק מייצר באופן יעיל ולכן ניתן להגדיל את הייצור של מוצר אחד מבלי להקטין את הייצור של המוצר השני.
- ד. על מנת להגדיל ייצור מוצר X אפשר להעביר עובדים מייצור מוצר X לייצור מוצר Y.



- 3) להלן תרשים של עקומת תמורה ומספר נקודות הנמצאות ביחס מסוים לעקומה. להלן מספר טענות לגבי התרשים:
- הייצור בנקודה E אינו יעיל יותר מהייצור בנקודה B.
 - הייצור בנקודה A יעיל יותר מהייצור בנקודה B.
 - הייצור בנקודה C יעיל יותר מהייצור בנקודה B.
 - הייצור בנקודה D יעיל יותר מהייצור בנקודה B.



- 4) להלן תרשים של עקומת תמורה ומספר נקודות הנמצאות ביחס מסוים לעקומה. להלן מספר טענות לגבי התרשים:
- ההוצאה האלטרנטיבית השולית לייצור מוצר X חיובית בנקודות E ו D.
 - ההוצאה האלטרנטיבית השולית לייצור מוצר X חיובית בנקודות B ו C.
 - במעבר מנקודה D לנקודה B, ניתן להגדיל את ייצור מוצר Y רק ע"י ויתור על מוצר X.
 - במעבר מנקודה C לנקודה B, ההוצאה האלטרנטיבית השולית לייצור מוצר X גדלה.



- 5) להלן תרשים של עקומת תמורה ומספר נקודות הנמצאות ביחס מסוים לעקומה. להלן מספר טענות לגבי התרשים:
- שיפור טכנולוגי בייצור מוצר X יכול לאפשר למשק לייצר בנקודה F.
 - שיפור טכנולוגי בייצור מוצר Y לא יכול להביא לגידול בייצור שני המוצרים.
 - אם, במצב המוצא, המשק מייצר בנקודה E, אזי שיפור טכנולוגי בייצור מוצר X לא יכול להביא לגידול בייצור שני המוצרים.
 - מענק שהמשק מקבל ממוצר X יכול להביא את המשק לייצר בנקודה A.

6) להלן מספר טענות לגבי עקומת התמורה:

- א. גידול בכמות גורמי הייצור תגדיל בהכרח את עקומת התמורה.
- ב. ייצור יעיל מחייב תעסוקה מלאה של כל גורמי הייצור.
- ג. אם המשק נמצא על גבול אפשרויות הייצור הוא מייצר באופן יעיל.
- ד. אם חלק מגורמי הייצור מובטלים, הרי שניתן להגדיל את התפוקה של מוצר אחד ללא ויתור על המוצר השני.

7) להלן מספר טענות לגבי עקומת התמורה של משק בעל גורם ייצור יחיד (עבודה). איזו מהטענות הבאות אינה נכונה:

- א. גידול בכמות גורמי הייצור תגדיל בהכרח את עקומת התמורה.
- ב. ייצור יעיל מחייב תעסוקה מלאה של כל גורמי הייצור.
- ג. אם המשק נמצא על גבול אפשרויות הייצור הוא מייצר באופן יעיל.
- ד. אם חלק מגורמי הייצור מובטלים, הרי שההוצאה האלטרנטיבית השולית לייצור יחידת מוצר נוספת היא חיובית.

8) משק מייצר את מוצר X ומוצר Y באמצעות עובדים בלבד. להלן מספר טענות:

- א. אם הכמויות המקסימליות שהמשק יכול לייצר משני המוצרים שוות, אזי ההוצאה האלטרנטיבית השולית לייצור מוצר X שווה 1.
- ב. אם המשק מייצר כמויות שוות משני המוצרים, אזי ההוצאה האלטרנטיבית השולית לייצור מוצר X שווה 1.
- ג. אם הכמויות המקסימליות שהמשק יכול לייצר משני המוצרים שוות, אזי ההוצאה האלטרנטיבית הממוצעת לייצור מוצר X שווה 1, אם המשק מייצר רק את מוצר X.
- ד. אם המשק מייצר כמויות שוות משני המוצרים, אזי ההוצאה האלטרנטיבית השולית לייצור מוצר X שווה 1, רק אם עקומת התמורה ליניארית.

9) במשק הישראלי מייצרים מוצרי מזון ומוצרי בידור. כעת החליטו להעביר חלק מן הפועלים מייצור מזון לייצור מוצרי בידור. התברר שתפוקת מוצרי הבידור גדלה בעוד תפוקת מוצרי המזון לא השתנתה. איזו מן הטענות הבאות המתאימה למעבר הפועלים אינה נכונה:

- א. במצב המוצא, הייצור במשק לא היה יעיל.
- ב. התפוקה השולית של הפועלים שהועברו הייתה חיובית בשני המוצרים.
- ג. התפוקה השולית של הפועלים שהועברו הייתה חיובית בייצור מוצרי בידור ואפס בייצור מוצרי מזון.
- ד. ההוצאה האלטרנטיבית השולית לייצור מוצרי בידור הייתה אפס.

10 אם ידוע שהמשק מייצר תמיד כמויות חיוביות משני המוצרים ונמצא על עקומת התמורה, אזי:

- א. ההוצאה האלטרנטיבית השולית בייצור שני המוצרים גדולה מאפס.
- ב. אם בנוסף נתון שהמשק מייצר כמות שווה משני המוצרים, אזי ההוצאה האלטרנטיבית השולית שווה ל-1.
- ג. אם בנוסף נתון שחלק מגורמי הייצור אינם מועסקים, אזי המשק אינו מייצר בעילות.
- ד. גידול בכמות של אחד מגורמי הייצור יביא בהכרח לגידול בכמות המיוצרת ממוצר Y.

11 משק מייצר את מוצר X ומוצר Y באמצעות עובדים בלבד. ידוע שהתפוקה השולית של העובדים קבועה בשני המוצרים. איזו מן הטענות הבאות **אינה נכונה**:

- א. עקומת התמורה של המשק ליניארית.
- ב. ההוצאה האלטרנטיבית השולית לייצור מוצר X קבועה ושווה להוצאה האלטרנטיבית השולית לייצור מוצר Y.
- ג. אם הכמויות המקסימליות שהמשק יכול לייצר משני המוצרים שוות, אזי ההוצאה האלטרנטיבית השולית לייצור מוצר X שווה ל-1.
- ד. ההוצאה האלטרנטיבית השולית לייצור מוצר X שווה להוצאה האלטרנטיבית הממוצעת לייצור מוצר X.

12 להלן מספר טענות לגבי עקומת התמורה:

1. אם התפוקה השולית של גורם הייצור חיובית וקבועה בייצור שני המוצרים, עקומת התמורה תהיה ליניארית.
2. רק אם התפוקה השולית של גורם הייצור חיובית ופוחתת בייצור שני המוצרים, עקומת התמורה תהיה קמורה (רגילה).
3. אם קיימים שני גורמי ייצור שונים והתפוקה השולית של שני גורמי הייצור חיובית וקבועה בייצור שני המוצרים, עקומת התמורה תהיה קו שבור בעל שני קטעים.
 - א. רק טענה 1 נכונה.
 - ב. רק טענה 2 נכונה.
 - ג. רק טענה 3 נכונה.
 - ד. טענות 1 ו-2 נכונות.

- (27)** משק מייצר שני מוצרים X ו-Y. במשק יש 100 עובדים ו-100 עובדות. כל עובד יכול לייצר 5 יחידות ממוצר X או 5 יחידות ממוצר Y. כל עובדת יכולה לייצר 2 יחידות ממוצר X או 6 יחידות ממוצר Y. המשק מעוניין לייצר כמויות שוות משני המוצרים. מכאן ש:
- ההוצאה האלטרנטיבית השולית לייצור יחידת X היא 1 יחידת Y.
 - בייצור מוצר Y יעסקו גם עובדים וגם עובדות.
 - אם יחול שיפור טכנולוגי של 20% ביכולת של העובדים בלבד, המשק ייצר 600 יחידות מכל מוצר.
 - ההוצאה האלטרנטיבית הכוללת לייצור מוצר X קטנה מ-500 יחידות Y.

- (28)** משק מייצר שני מוצרים X ו-Y. במשק יש מכונות, עובדים ועובדות. כל מכונה יכולה לייצר 10 יחידות ממוצר X או 30 יחידות ממוצר Y. כל עובד יכול לייצר 5 יחידות ממוצר X או 5 יחידות ממוצר Y. כל עובדת יכולה לייצר 2 יחידות ממוצר X או 6 יחידות ממוצר Y. מכאן ש:
- עקומת התמורה ליניארית.
 - למכונות יש יתרון יחסי על פני העובדות בייצור מוצר Y.
 - עקומת התמורה אינה יכולה להיראות כקו שבור בעל שלושה קטעים.
 - היחידות הראשונות של מוצר X מיוצרות בהכרח ע"י מכונה.

- (31)** משק מייצר שני מוצרים X ו-Y. במשק יש מכונות, עובדים וקרקע. כל מכונה יכולה לייצר 2 יחידות ממוצר X או 3 יחידות ממוצר Y. כל עובד יכול לייצר 2 יחידות ממוצר X או 4 יחידות ממוצר Y. בכל דונם קרקע ניתן לייצר 2 יחידות ממוצר X או 6 יחידות ממוצר Y. מכאן ש:
- עקומת התמורה היא קו ליניארי.
 - ייתכן שהמכונות תייצרנה כמות חיובית משני המוצרים והעובדים ייצרו את מוצר X בלבד.
 - ייתכן שהמכונות תייצרנה כמות חיובית משני המוצרים והעובדים ייצרו את מוצר Y בלבד.
 - אם המשק מייצר רק את מוצר X, אזי ההוצאה האלטרנטיבית השולית לייצור X היא $2/3$ יחידות Y.

- 32** בענף הבניין בונים בניינים ובתים פרטיים. לרשות הענף עומדים 1,000 עובדים מקומיים ו-3,000 עובדים זרים. לבניית בניין דרושים 10 עובדים מקומיים ו-20 עובדים זרים, ולבניית בית פרטי דרושים 5 עובדים מקומיים ו-10 עובדים זרים.
- א. עקומת התמורה היא עקומת מגבלות ולכן היא תיראה כקו שבור בעל שני קטעים.
 ב. ייבוא של עובדים זרים נוספים יגדיל את גבול אפשרויות הייצור של ענף הבנייה.
 ג. הכשרת עובדים מקומיים נוספים תגדיל את גבול אפשרויות הייצור של ענף הבנייה.
 ד. ייתכן מצב שבו עקומת התמורה תיראה כקו שבור בעל שני קטעים.

- 33** מדינות א' ו-ב' מייצרות את מוצרים X ו-Y בלבד, ומקיימות מסחר ביניהן. במדינה א' דרושים 2 עובדים לייצור מוצר X ו-5 עובדים לייצור מוצר Y. במדינה ב' דרושים 2 עובדים לייצור מוצר X ו-2 עובדים לייצור מוצר Y. לכל מדינה יש 100 עובדים. בשנה הנוכחית כל מדינה צורכת 25 יחידות X.
- א. מדינה א' מוכרת בהכרח את מוצר Y וקונה את מוצר X.
 ב. אם שני המשקים היו מתחברים הרי שהנקודה ($50=X$, $35=Y$) נמצאת על עקומת התמורה.
 ג. שיפור של 150% בייצור מוצר Y במדינה א' יהפוך את המסחר בין המדינות לחסר תועלת.
 ד. אם יעזבו את מדינה א' 50 עובדים שייצרו את מוצר X, ישתנה היתרון היחסי בין המדינות.

36 משק מייצר שני מוצרים X ו-Y. לרשות המשק עומדים 200 מכונות ו-300 עובדים. כל מכונה יכולה לייצר 2 יחידות ממוצר X או 3 יחידות ממוצר Y. כל עובד יכול לייצר 2 יחידות ממוצר X או 4 יחידות ממוצר Y. המשק מייצר באופן יעיל כמות של 1500 יחידות Y. להלן מספר טענות:

- א. המשק מייצר 200 יחידות ממוצר X.
- ב. בייצור מוצר X מועסקים גם מכונות וגם עובדים.
- ג. בייצור מוצר Y מועסקות מכונות בלבד.
- ד. כל התשובות האחרות אינן נכונות.

37 משק מייצר שני מוצרים X ו-Y. לרשות המשק עומדים 240 פועלים ו-120 פועלות. לייצור מוצר X דרושים 4 פועלים ופועלת אחת. לייצור מוצר Y דרושים 2 פועלים ו-2 פועלות. המשק נוהג לצרוך 50 יחידות ממוצר X ומייצר תמיד ביעילות. להלן מספר טענות לגבי מצב המשק:

- א. המשק מייצר בנקודת תעסוקה מלאה.
- ב. המשק מייצר 30 יחידות ממוצר Y.
- ג. יש 30 פועלות מובטלות.
- ד. יש 10 פועלים מובטלים.

38 משק מייצר שני מוצרים X ו-Y. לרשות המשק עומדים 240 פועלים ו-120 פועלות. לייצור מוצר X דרושים 4 פועלים ופועלת אחת. לייצור מוצר Y דרושים 2 פועלים ו-2 פועלות. איזו מן הטענות הבאות לגבי מצב המשק נכונה:

- א. המשק מייצר תמיד בתעסוקה מלאה (אין אבטלה מבנית).
- ב. ההוצאה האלטרנטיבית השולית לייצור מוצר X תלויה בכמות המיוצרת ממוצר X.
- ג. גידול במספר הפועלים בלבד או גידול במספר הפועלות בלבד לא ישנה את עקומת התמורה.
- ד. ההוצאה האלטרנטיבית השולית לייצור יחידת X היא קבועה ושווה ל-2 יחידות Y.

- 44) לרשות המשק עומדים שלושה גורמי ייצור : פועלים, מכונות ודונמים של קרקע. כל פועל יכול לייצר 2 יחידות X או 4 יחידות Y. כל מכונה יכולה לייצר 1 יחידות X או 1 יחידות Y. כל דונם קרקע יכול לייצר 6 יחידות X או 24 יחידות Y. מחירו העולמי של מוצר X הוא \$15 ומחירו העולמי של מוצר Y הוא \$10. על מנת להיות על גבול אפשרויות הצריכה שלו, המשק צריך להקצות את גורמי הייצור באופן הבא :
- א. כל גורמי הייצור צריכים לייצר את מוצר Y, כי הוא זול יותר.
 - ב. כל גורמי הייצור צריכים לייצר את מוצר X, כי הוא יקר יותר.
 - ג. כל הפועלים והקרקע ייצרו את מוצר Y וכל המכונות תייצרנה את מוצר X.
 - ד. חלק מהפועלים והקרקע ייצרו את מוצר Y והשאר ייצרו את מוצר X, וכן כל המכונות תייצרנה את מוצר X.

תשובות סופיות:

ב (4	א (3	א (2	ג (1
ג (8	ד (7	ג (6	ג (5
א (12	א (11	א (10	ב (9
		ג (28	ג (27
		ג (32	ג (31
		א (36	ג (34
		ב (38	ב (37
			א (44

פרק 2

פונקציות ייצור (הקשר בין תפוקה שולית לתפוקה ממוצעת) – הקצאת עובדים

שאלות:

- (1) להלן מספר טענות לגבי הקצאה יעילה (הניחו שחוק התפוקה שולית הפוחתת מתקיים):
- א. כדאי להעסיק פועל כל עוד תפוקתו השולית חיובית.
 - ב. כדאי להעסיק פועל עד שתפוקתו השולית שווה אפס.
 - ג. כדאי להעסיק פועל כל עוד תפוקתו השולית אינה פוחתת.
 - ד. כדאי להעסיק פועל כל עוד תפוקתו השולית גבוהה או שווה לשכר שלו.
- (2) להלן מספר טענות לגבי הקצאה יעילה (הניחו שחוק התפוקה שולית הפוחתת מתקיים):
- א. גידול במספר גורמי הייצור הקבועים (שדות) בלבד מקטין את התפוקה השולית שלהם ומגדיל את התפוקה השולית של גורם הייצור המשתנה (פועלים).
 - ב. גידול במספר גורמי הייצור הקבועים (שדות) בלבד מגדיל את התפוקה השולית שלהם ומקטין את התפוקה השולית של גורם הייצור המשתנה (פועלים).
 - ג. תפוקתו השולית של גורם הייצור הקבוע (שדה או מכונה) שווה לתפוקתו השולית של גורם הייצור המשתנה (פועלים).
 - ד. כל הטענות אינן נכונות.
- (3) משק מייצר באמצעות גורמי ייצור קבועים (שדות או מכונות) ובאמצעות גורמי ייצור משתנים (פועלים) בתנאי תפוקה שולית פוחתת. להלן מספר טענות:
- א. גידול במספר הפועלים יקטין את התפוקה הכוללת.
 - ב. גידול במספר המכונות יקטין את התפוקה הכוללת.
 - ג. גידול במספר המכונות והפועלים בו זמנית יקטין את התפוקה השולית של שניהם.
 - ד. כל הטענות האחרות אינן נכונות.

4) להלן פונקציית הייצור של שדה חיטה המצוי בבעלותו של בעל שדה יחיד.

מספר פועלים	תפוקה כוללת בק"ג ביום עבודה
1	80
2	150
3	210
4	260
5	300
6	290

בעל השדה יכול להעסיק פועלים בשכר של 200 ₪ ליום. ק"ג חיטה נמכר בשוק החופשי בסך של 5 ₪ לק"ג. מכאן ש:

- א. כדאי לבעל השדה להעסיק 4 פועלים.
- ב. רווחי בעל השדה יהיו 600 ₪ ליום עבודה.
- ג. התפוקה השולית של הפועלים עולה ואחר כך פוחתת.
- ד. ההוצאה השולית לייצור ק"ג חיטה עולה עם גידול בתפוקה.

5) בקיבוץ חרמש יש 10 שדות מסוג א' ו-10 שדות מסוג ב'. בכל שדה ניתן לגדל חיטה בלבד. להלן יכולת הייצור של כל שדה בשנה חקלאית. בקיבוץ יש 50 חברים המסוגלים לעבוד בשדות.

מספר פועלים	שדה א' - תפוקה כוללת בטון	שדה ב' - תפוקה כוללת בטון
1	80	65
2	150	110
3	210	150
4	260	180
5	300	200
6	290	210

- א. התפוקה הכוללת של המשק היא 3,050 טון חיטה;
- ב. התפוקה השולית של הפועלים היא 60 טון חיטה.
- ג. אם מחיר טון חיטה שווה 50 ש"ח, אזי שכר הפועלים הוא 50 ש"ח.
- ד. התפוקה השולית של שדה ב' הוא 20 טון חיטה.

- 6) קיבוץ חרמש, מהשאלה הקודמת, הכשיר את שדות ב' לגידול של כותנה. ידוע שמחיר טון חיטה הוא 500 ש"ח ומחיר טון כותנה הוא 1,000 ש"ח.
- א. ערך התפוקה הכוללת של המשק הוא 200,000 ש"ח;
 ב. ערך התפוקה השולית של הפועלים הוא 40,000 ש"ח.
 ג. כל החברים יועסקו בגידול כותנה.
 ד. שכרו של כל חבר הוא 35,000 ש"ח.

- 7) קיבוץ חרמש, שאינו יורד מהכותרות, מקבל הצעה מהקיבוץ השכן לקבל שדה נוסף, שבו ניתן לגדל כותנה (בנוסף לשדות ב' שהוכשרו לעניין בשאלה 2). בתמורה מבקש הקיבוץ השכן לקבל חבר אחד מקיבוץ חרמש, שיעבוד אצלו וכן סכום כסף נוסף.
- א. העסקה, בכל מקרה, אינה כדאית לקיבוץ חרמש.
 ב. העסקה, בכל מקרה, כדאית לקיבוץ חרמש.
 ג. העסקה רווחית לקיבוץ חרמש, רק אם סכום הכסף יהיה נמוך מ-10,000 ₪.
 ד. היסקה רווחית לקיבוץ חרמש, רק אם סכום הכסף יהיה נמוך מ-20,000 ₪.

- 8) ליצרן מכונות לעיבוד לוחות עץ, מכונות בעלות יכולת ייצור שונה המוצגת להלן. שכר כל פועל במשק - 100 ₪ ליום עבודה והתשלום המתקבל בגין עיבוד לוח הוא 20 ₪.

מכונה ג' – מספר לוחות ביום	מכונה ב' – מספר לוחות ביום	מכונה א' – מספר לוחות ביום	תשומת עבודה
8	15	12	1
15	25	20	2
21	30	27	3
24	31	32	4
26	31	33	5

איזו מהטענות **אינה נכונה** :

- א. היצרן יעסיק 10 פועלים;
 ב. היצרן יהיה מוכן להחכיר את כל המכונות תמורת 650 ש"ח.
 ג. היצרן יהיה מוכן להחכיר את מכונה א' תמורת 240 ש"ח לפחות.
 ד. התפוקה השולית של הפועלים פוחתת בכל המכונות.

9) יצרן המייצר את מוצר X, בעל 2 מכונות עם יכולת ייצור שונה המוצגת להלן.

מכונה ב'	מכונה א'	תשומת עבודה
26	24	1
48	36	2
66	44	3
80	50	4

נתון שמחיר מוצר X בשוק הוא 10 ₪ ושכר הפועלים הוא 200 ₪.

- א. היצרן יעסיק 4 פועלים.
- ב. היצרן יהיה מוכן להחליף את מכונה ב' תמורת מכונה א' נוספת ו-50 ₪.
- ג. היצרן יהיה מוכן להחכיר את מכונה א' תמורת 30 ₪ לפחות.
- ד. החלפת מכונה א' במכונה מסוג ב' כדאית, רק אם עלות ההחלפה נמוכה מ-50 ₪.

10) בהמשך לנתוני השאלה הקודמת הממשלה החליטה לסבסד את השכר למעסיקים ב 25%. מכאן ש:

- א. היצרן יעסיק 3 פועלים.
- ב. רווחי היצרן יגדלו ב-150%.
- ג. היצרן יהיה מוכן להחכיר את מכונה א' תמורת 100 ש"ח לפחות.
- ד. כל הטענות האחרות אינן נכונות.

11) מפעל מייצר בתנאי תפוקה שולית פוחתת מההתחלה עם גידול בתפוקה. להלן מספר טענות:

- א. התפוקה הממוצעת פוחתת עם גידול בתפוקה וגבוהה מהתפוקה השולית מעבר לעובד הראשון.
- ב. התפוקה הממוצעת קבועה.
- ג. הגדלת מספר העובדים פי 2 תגדיל את התפוקה פי 2.
- ד. הקטנת מספר העובדים ב 50% תקטין את התפוקה הכוללת ביותר מ-50%.

12) מפעל מייצר בתנאי תפוקה שולית עולה בהתחלה עד לשלושה עובדים ולאחר מכן פוחתת ככל שהתפוקה גדלה. להלן מספר טענות:

- א. התפוקה הממוצעת עולה גם כן עד לשלושה עובדים ופוחתת לאחר מכן.
- ב. התפוקה הממוצעת קבועה.
- ג. הגדלת מספר העובדים משלושה עובדים לשישה עובדים תגדיל את התפוקה בפחות מפי 2.
- ד. התפוקה השולית של העובד הרביעי יכולה להיות גבוהה יותר מהתפוקה השולית של העובד השני.

13 בעיירה פלדטאון יש 10 קווי ייצור פלדה מסוג א' ועוד 8 קווי ייצור פלדה מסוג ב'. לכל קו ייצור יש בעלים משלו. בעיירה יש 38 פועלים המתחרים ביניהם על מקום העבודה. להלן פונקציית הייצור של כל קו ולאחר מכן מספר טענות.

תשומת עבודה לשנה	תפוקה בטונות קו ייצור א'	תפוקה בטונות קו ייצור ב'
1	11	12
2	18	22
3	24	30
4	29	32
5	32	31

- א. התפוקה השולית של הפועלים היא 10 טון פלדה.
- ב. רווחי בעלי קו מסוג א' הם 5 טון פלדה.
- ג. רווחי בעלי קו מסוג ב' הם 6 טון פלדה.
- ד. התפוקה השולית של קו ייצור מסוג ב' היא 9 טון פלדה.

14 בעיר סווטש יש 100 קווי ייצור שעונים מסוג א' ועוד 50 קווי ייצור שעונים מסוג ב'. לכל קו ייצור יש בעלים משלו. בעיירה יש 280 פועלים המתחרים ביניהם על מקום העבודה. כל שעון נמכר בשוק במחיר של \$100. להלן פונקציית הייצור של כל קו ולאחר מכן מספר טענות.

תשומת עבודה לשנה	תפוקה ביחידות קו ייצור א'	תפוקה ביחידות קו ייצור ב'
1	110	120
2	180	220
3	240	250
4	250	270
5	260	280

- א. התפוקה השולית של הפועלים היא 120 שעונים.
- ב. רווחי בעלי קו מסוג א' הם \$4000.
- ג. רווחי בעלי קו מסוג ב' הם \$1500.
- ד. התפוקה השולית של קו ייצור מסוג ב' היא 70 שעונים.

15 בהמשך לנתוני השאלה הקודמת, ידוע שכתוצאה משריפה נהרסו 15 קווי ייצור מסוג ב'. כתוצאה מכך:

- א. התפוקה השולית של הפועלים תגדל.
- ב. רווחי בעלי קו מסוג א' לא ישתנו.
- ג. רווחי בעלי קו מסוג ב' לא ישתנו.
- ד. התפוקה השולית של קו ייצור מסוג ב' תגדל.

16 לרשות המשק יש 3 מכונות לייצור בובות עץ. המכונות בעלות יכולת ייצור שונה המוצגת להלן. במשק יש 6 פועלים.

מכונה ג' – מספר בובות ביום	מכונה ב' – מספר בובות ביום	מכונה א' – מספר בובות ביום	תשומת עבודה
8	15	12	1
14	25	20	2
19	30	27	3
23	31	32	4
26	31	33	5

בהינתן שהמשק מקצה באופן יעיל את הפועלים:

- א. היצרן יעסיק 2 פועלים בכל אחת מהמכונות.
- ב. היצרן יהיה מוכן להחליף מכונה מסוג א' במכונה מסוג ב'.
- ג. היצרן יהיה מוכן להחליף מכונה מסוג ג' במכונה מסוג ב' ולשלם בנוסף עוד 12 בובות עץ.
- ד. כל הטענות האחרות אינן נכונות.

17 במפעל טקסטיל קיימים שלושה סוגים של מכונות לייצור חולצות. לרשות המפעל 10 מכונות מכל סוג. שכר הפועלים הוא 450 ₪ ליום עבודה. מחיר חולצה בשוק הוא 120 ₪. עלות הבד לייצור כל חולצה היא 45 ₪.

מכונה ג' – מספר חולצות ביום	מכונה ב' – מספר חולצות ביום	מכונה א' – מספר חולצות ביום	תשומת עבודה
8	15	12	1
15	25	20	2
21	30	27	3
24	31	32	4
26	31	33	5

בהינתן שהמשק מקצה באופן יעיל את הפועלים:

- א. במפעל יועסקו 100 פועלים.
- ב. הרווח של המפעל יהיה 18,750 ₪.
- ג. התפוקה של המפעל היא 670 חולצות.
- ד. טענות א' וג' נכונות.

במפעל טקסטיל קיימים שלושה סוגים של מכונות : מכונה מסוג א' מייצרת חולצות, מכונה מסוג ב' מייצרת מכנסיים ומכונה מסוג ג' מייצרת חצאיות. לרשות המפעל 10 מכונות מכל סוג. ידוע שעומדים לרשות המפעל 45 פועלים.
 מחיר חולצה בשוק הוא 120 ₪.
 מחיר מכנסיים בשוק הוא 100 ₪.
 מחיר חצאית בשוק הוא 150 ₪.

מכונה ג' – מספר חצאיות ביום	מכונה ב' – מספר מכנסיים ביום	מכונה א' – מספר חולצות ביום	תשומת עבודה
8	15	12	1
15	25	20	2
21	30	27	3
24	31	32	4
26	31	33	5

להלן שלוש שאלות הנוגעות לנתונים הנ"ל:

18 בהינתן שהמפעל מקצה באופן יעיל את הפועלים, איזו מהטענות הבאות אינה נכונה :

א. המפעל ייצר 120 חולצות, 200 מכנסיים ו- 150 חצאיות.

ב. שכר הפועלים יהיה 1,000 ₪.

ג. הפדיון הכולל של המפעל יהיה 56,900 ש"ח.

ד. הרווח הכולל של המפעל יהיה 10,000 ₪.

19 בהינתן שהמפעל מקצה באופן יעיל את הפועלים, איזו מהטענות הבאות אינה נכונה :

א. המפעל ירוויח יותר אם יעמדו לרשותו עוד 5 פועלים.

ב. אילו כל מכונה הייתה בבעלות נפרדת אזי בעלי מכונה מסוג א' היו מרוויחים 440 ₪.

ג. אילו כל מכונה הייתה בבעלות נפרדת אזי בעלי מכונה מסוג ב' היו מרוויחים 500 ₪.

ד. אילו כל מכונה הייתה בבעלות נפרדת אזי בעלי מכונה מסוג ג' היו מרוויחים 250 ₪.

20 בהינתן שהמפעל מקצה באופן יעיל את הפועלים, איזו מהטענות הבאות אינה נכונה :

- א. אם הממשלה תיתן סובסידיה של 10 ₪ לכל זוג מכנסיים, אזי תשתנה ההקצאה במפעל.
- ב. אם הממשלה תיתן סובסידיה של 10 ₪ לכל חולצה, אזי תשתנה ההקצאה במפעל.
- ג. אם יחול שיפור טכנולוגי, המגדיל את התפוקה השולית של הפועלים, העובדים על מכונה ב' בשיעור של 10%, אזי תשתנה ההקצאה במפעל.
- ד. אם יחול שיפור טכנולוגי, המגדיל את התפוקה השולית של הפועלים בכל המכונות ב' בשיעור של 10%, אזי לא תשתנה ההקצאה במפעל.

21 במשק הפועל בתנאי תחרות משוכללת, שבו השכר משולם ביחידות תפוקה, כדאי להעסיק פועלים כל עוד :

- א. תפוקתם השולית עולה.
- ב. תפוקתם השולית חיובית.
- ג. תפוקתם השולית גבוהה או שווה לשכר שלהם.
- ד. תפוקתם השולית גבוהה או שווה לעלות השולית לייצור המוצר.

22 משק מייצר באמצעות גורמי ייצור קבועים (שדות או מכונות) ובאמצעות גורמי ייצור משתנים (פועלים) בתנאי תפוקה שולית פוחתת. להלן מספר טענות :

- א. גידול במספר גורמי הייצור הקבועים ללא שינוי במספר גורמי הייצור המשתנים, יגדיל את התפוקה השולית של שני גורמי הייצור (הקבועים והמשתנים).
- ב. גידול במספר גורמי הייצור המשתנים ללא שינוי במספר גורמי הייצור הקבועים, יגדיל את התפוקה השולית של שני גורמי הייצור (הקבועים והמשתנים).
- ג. גידול במספר גורמי הייצור הקבועים ללא שינוי במספר גורמי הייצור המשתנים, יגדיל את התפוקה השולית של גורמי הייצור המשתנים ויקטין את התפוקה השולית של גורמי הייצור הקבועים.
- ד. גידול במספר גורמי הייצור הקבועים ללא שינוי במספר גורמי הייצור המשתנים, יגדיל את הרווחים של בעלי ההון (הבעלים של גורמי הייצור הקבועים).

23 להלן פונקציית הייצור של מכונה לייצור נעליים כפונקציה של מספר הפועלים המועסקים בה בחודש עבודה.

מספר פועלים	תפוקה כוללת של זוגות נעליים
1	80
2	190
3	290
4	350
5	400
6	420

שכר פועל במשק הוא 7000 ₪ לחודש. מחיר נעליים בשוק הוא 100 ₪ לזוג. בעל המפעל שילם מראש בתחילת השנה שכר דירה חודשי בסך 2,000 ₪ לחודש. מכאן ש:

- א. התפוקה הכוללת תהיה 420 זוגות נעליים בחודש.
- ב. המפעל יעסיק 5 פועלים.
- ג. ההוצאה השולית לייצור זוג נעליים עולה כל הזמן.
- ד. רווחי בעל המפעל יהיו 6,000 ₪ לחודש.

תשובות סופיות:

- | | | | |
|--------|--------|--------|--------|
| ד (4) | ד (3) | א (2) | ד (1) |
| ב (8) | ג (7) | ד (6) | ד (5) |
| ד (12) | א (11) | ב (10) | ב (9) |
| ב (16) | ד (15) | ב (14) | ד (13) |
| ד (20) | א (19) | ד (18) | ב (17) |
| | ד (23) | ג (22) | ג (21) |

פרק 3

מבנה הוצאות היצרן (MC, AVC, ATC) – עקומת היצע ופונקציית הוצאות

הערה:

הנחת יסוד: התפוקה השולית עולה בהתחלה ופוחתת מנקודה מסוימת, אלא אם קיים נתון המעיד אחרת.

שאלות:

1) נתונה פונקציית העלות הכוללת של פירמה תחרותית. הניחו שמייצרים יחידות שלמות.

7	6	5	4	3	2	1	0	Q	תפוקה
210	178	153	131	110	91	71	46	TC	סה"כ עלויות

מחיר השוק הוא 25 ₪. מכאן ש:

- הפירמה לא תייצר כלל.
- הפירמה תייצר 6 יחידות בטווח הקצר.
- הפירמה תייצר 7 יחידות בטווח הארוך והקצר.
- הפירמה שואפת שהרווח השולי יהיה מקסימלי ולכן היא תייצר 2 יחידות.
- הפירמה תהיה אדישה בין ייצור יחידה אחת לייצור 6 יחידות, מפני שהעלות השולית זהה ושווה למחיר השוק בשני המקרים.

פרק 4

ביקוש ושיווי משקל בתחרות משוכללת

הערה:

הפרק כולל מוצרים משלימים ותחליפיים.

שאלות:

- (1) איזה מהגורמים הבאים משפיע על עקומת הביקוש?
- א. שיפור טכנולוגי.
 - ב. עלייה במחיר חומרי הגלם.
 - ג. עלייה במחיר מוצר תחליפי.
 - ד. גידול במספר היצרנים.

- (2) איזה מהגורמים הבאים משפיע על עקומת ההיצע של יצרן בודד?
- א. גידול בתפוקה השולית של הפועלים.
 - ב. התייקרות של ההוצאות הקבועות.
 - ג. ירידה במחיר מוצר משלים.
 - ד. עלייה במחיר מוצר תחליפי.
 - ה. גידול במספר היצרנים.

- (3) להלן מספר טענות על עקומת הביקוש. איזו מהן נכונה:
- א. אם הביקוש גמיש לחלוטין, אזי הצרכנים מוכנים לשלם מחיר קבוע עבור כל כמות.
 - ב. אם הביקוש קשיח לחלוטין, אזי הצרכנים מוכנים לשלם מחיר קבוע עבור כל כמות.
 - ג. אם הביקוש גמיש לחלוטין, אזי הצרכנים מוכנים לשלם סכום קבוע עבור כל כמות.
 - ד. אם הביקוש בעל גמישות יחידתית, אזי הצרכנים מוכנים לקנות כמות קבועה בכל מחיר.

- 4) להלן מספר טענות על עקומת ההיצע. איזו מהן אינה נכונה:
- אם ההיצע גמיש לחלוטין, התפוקה השולית קבועה.
 - אם ההיצע גמיש לחלוטין, אזי היצרנים מוכנים להציע כמות מסוימת בכל מחיר.
 - אם ההיצע עולה משמאל לימין, אזי התפוקה השולית פוחתת.
 - אם ההיצע בעל גמישות יחידתית, אזי עקומת ההיצע ליניארית ויוצאת מראשית הצירים.
- 5) להלן מספר טענות על שיווי משקל תחרותי ועקומות הביקוש וההיצע. איזו מהן נכונה:
- גידול בהיצע מגדיל את הביקוש.
 - שיפור טכנולוגי מגדיל את ההיצע ואת הביקוש.
 - עלייה בשכר העבודה תגרום לתזוזה של ההיצע ולתנועה על הביקוש.
 - גידול בהכנסת הצרכנים עבורם המוצר נורמלי במקביל לשיפור טכנולוגי יכולים לגרום לירידת הכמות בשיווי משקל.
- 6) שינוי בענף X גרם לכך שהמחיר ירד והכמות לא השתנתה. מה יכול להיות הסבר אפשרי לכך:
- עקומות הביקוש וההיצע רגילות.
 - עקומת הביקוש רגילה ועקומת ההיצע קשיחה לחלוטין.
 - עקומת הביקוש רגילה ועקומת ההיצע גמישה לחלוטין.
 - עקומת הביקוש גמישה לחלוטין ועקומת ההיצע רגילה.
- 7) בענף X חלו שינויים שהביאו להתייקרות המוצר ולירידה בכמות הנמכרת. אלו מהמקרים הבאים יכול להסביר את השינוי:
1. אם שכר הפועלים מתייקר, ומחיר מוצר משלים מתייקר.
 2. אם שכר הפועלים מתייקר, ומחיר מוצר משלים מוזל.
 3. אם שכר הפועלים מוזל, ומחיר מוצר משלים מתייקר.
- א. רק מקרה 1 יכול להסביר את השינוי.
 - ב. רק מקרה 2 יכול להסביר את השינוי.
 - ג. רק מקרים 1,2 יכולים להסביר את השינוי.
 - ד. כל המקרים יכולים להסביר את השינוי.

- 14** מחיר מוצר X ירד ומחיר מוצר Y עלה.
מה מהמקרים הבאים יכול להסביר את השינויים :
- א. המוצרים תחליפיים, וחל שיפור טכנולוגי בייצור מוצר X.
 - ב. המוצרים תחליפיים, וחלה עלייה בהכנסת הצרכנים.
 - ג. המוצרים תחליפיים, וחלה התייקרות במחיר חומר הגלם של מוצר X.
 - ד. המוצרים משלימים, וחל שיפור טכנולוגי בייצור מוצר X.
- 15** ירידה במחירי ביטוח הרכב השפיעה על שיווי המשקל בשוק המכוניות הפרטיות ועל שיווי המשקל בשוק הנסיעות במוניות (מוצר תחליפי לרכב פרטי).
מה תהיה ההשפעה ?
- א. מחירי הרכבים הפרטיים ומחירי הנסיעה במוניות יעלו.
 - ב. מספר הרכבים הפרטיים ומספר הנסיעות במוניות יעלו.
 - ג. מחירי הרכבים הפרטיים יעלו ומחירי הנסיעה במוניות ירדו.
 - ד. לא ניתן לדעת בוודאות מה יקרה בשוק הנסיעות במוניות.
- 29** בענף בו מתקיימת תחרות משוכללת יש במצב המוצא 100 צרכנים ו-200 יצרנים.
פונקציית הביקוש של כל צרכן היא $P=1000-10q$ ופונקציית ההיצע של כל יצרן היא $P=20q$. כעת הצטרפו לענף 100 צרכנים נוספים בעלי פונקציית ביקוש $P=1000-20q$.
להלן מספר טענות :
1. בשיווי המשקל המקורי, המחיר היה 500 ₪.
 2. בשיווי המשקל החדש, המחיר עלה ב 20%.
 3. רווחי יצרן בודד במצב החדש שווים 9,000 ₪.
- א. רק טענות 1 ו-2 נכונות.
 - ב. רק טענות 1 ו-3 נכונות.
 - ג. רק טענות 2 ו-3 נכונות.
 - ד. כל הטענות נכונות.

30 בענף בו מתקיימת תחרות משוכללת יש במצב המוצא 100 צרכנים ו-200 יצרנים. פונקציית הביקוש של כל צרכן היא $P=1200-10q$ ופונקציית ההיצע של כל יצרן היא $P=20q$. כעת הצטרפו לענף יצרנים נוספים בעלי פונקציית היצע זהה לפונקציית היצע של היצרנים הותיקים. כתוצאה משינוי זה ירד מחיר השוק ב-20%. מכאן שמספר היצרנים החדש הוא:

- א. 400.
- ב. 300.
- ג. 500.
- ד. 600.

44 צרכן מוציא את כל הכנסתו על רכישת המוצרים X, Y . נתון שגמישות הביקוש ביחס להכנסה של מוצר X היא יחידתית. להלן מספר טענות:

- א. אם תגדל הכנסת הצרכן, תגדל הכמות שהוא רוכש משני המוצרים.
- ב. שני המוצרים הם משלימים.
- ג. אם מחירו של מוצר X יעלה אז תקטן הכמות שהצרכן רוכש משני המוצרים.
- ד. אם גמישות הביקוש ביחס להכנסה של מוצר X היא יחידתית, אז לא בהכרח שגם גמישות הביקוש ביחס למחיר של מוצר Y היא יחידתית.

45 צרכן מוציא את כל הכנסתו על רכישת המוצרים X, Y . נתון שהוא צורך תמיד כמויות שוות משני המוצרים. להלן מספר טענות:

- א. גמישות הביקוש של שני המוצרים ביחס למחיר היא יחידתית.
- ב. שני המוצרים הם בלתי תלויים.
- ג. אם מחירו של מוצר X יעלה אז תקטן הכמות שהצרכן רוכש משני המוצרים.
- ד. אם מחירו של מוצר Y ירד אז תגדל הכמות שהצרכן רוכש ממוצר Y ותקטן הכמות שהצרכן רוכש ממוצר X .

46 צרכן מוציא את כל הכנסתו על רכישת שלושת המוצרים Z, Y, X . נתון שהוא צורך תמיד ממוצר X כמות כפולה מזו שהוא צורך ממוצר Y וכמות הגדולה פי 3 מזו שהוא צורך ממוצר Z . להלן מספר טענות:

- א. גמישות הביקוש של שלושת המוצרים ביחס למחיר היא יחידתית.
- ב. שלושת המוצרים הם מוצרים משלימים.
- ג. אם מחירו של מוצר X יעלה אז תגדל הכמות שהצרכן רוכש משלושת המוצרים.
- ד. אם תעלה הכנסת הצרכן פי 2, אז תגדל ההוצאה של הצרכן על מוצר X פי 2, ועל מוצר Z תגדל ההוצאה פי 3.

47 צרכן מוציא את כל הכנסתו על רכישת מזון ולבוש. נתון שהוא צורך תמיד סכום קבוע על מזון ואת היתרה הוא מוציא על לבוש. הכנסתו מספיקה תמיד לרכישת שני המוצרים. להלן מספר טענות:

- א. גמישות הביקוש של שני המוצרים ביחס להכנסה היא יחידתית.
- ב. שני המוצרים הם מוצרים משלימים.
- ג. אם מחירו של המזון יעלה אז תקטן הכמות שהצרכן רוכש משני המוצרים.
- ד. אם מחירו של הלבוש ירד אז תגדל הכמות שהצרכן רוכש מהלבוש ולא תשתנה הכמות שהצרכן רוכש מהמזון.

48 צרכן מוציא את כל הכנסתו על רכישת מזון ולבוש. נתון שהוא צורך תמיד כמות קבועה על מזון ואת היתרה הוא מוציא על לבוש. הכנסתו מספיקה תמיד לרכישת שני המוצרים. להלן מספר טענות:

- א. גמישות הביקוש של שני המוצרים ביחס להכנסה היא יחידתית.
- ב. אם מחירו של המזון ירד אז תגדל הכמות שהצרכן רוכש מהלבוש.
- ג. שני המוצרים הם מוצרים משלימים.
- ד. אם מחירו של המזון יעלה אז תקטן הכמות שהצרכן רוכש משני המוצרים.

52 דני ויוסי מוציאים את כל הכנסתם על מזון ובילויים. דני תמיד מוציא 200 ₪ לבילויים בשבוע ואת יתרת הכנסתו על מזון. יוסי תמיד מוציא 20% מהכנסתו על בילויים ואת היתרה על מזון. מכאן ש:

- א. גמישות הביקוש ביחס להכנסה של שניהם יחידתית.
- ב. גמישות הביקוש ביחס למחיר של יוסי גדולה יותר.
- ג. עלייה במחיר הבילויים תגרום לשניהם לבלות פחות.
- ד. עבור יוסי ודני, בילויים הם מוצר נייטרלי.

53 רון מוציא את כל דמי הכיס שלו לבילוי בתיאטרון ובקולנוע. מתוך סכום זה הוא מוציא תמיד 100 ₪ על סרטים בקולנוע ואת היתרה על בילוי בתיאטרון. מכאן ש:

- א. אם יעלו דמי הכיס של יוסי ב-10% תגדל הוצאתו על תיאטרון ביותר מ-10%.
- ב. סרטים ותיאטרון הם מוצרים תחליפיים עבור רון.
- ג. סרטים ותיאטרון הם מוצרים משלימים עבור רון.
- ד. כל הטענות האחרות אינן נכונות.

תשובות סופיות (יש להתייחס רק לשאלות המופיעות בספר):

ב (4	א (3	א (2	ג (1
ב (8	ג (7	ב (6	ג (5
ד (12	ד (11	א (10	ג (9
ד (16	ג (15	ד (14	ב (13
ד (20	ג (19	א (18	א (17
ד (24	ב (23	ד (22	ד (21
ב (28	ג (27	ג (26	א (25
ד (32	א (31	ב (30	ד (29
א (36	ג (35	ב (34	ג (33
א (40	ד (39	ב (38	ד (37
ד (44	ג (43	ד (42	ד (41
ג (48	ב (47	ג (46	ג (45
א (52	ג (51	ד (50	ג (49
			ג (53

פרק 5

התערבות ממשלה – ייבוא / ייצוא

שאלות:

- (1) ענף X במשק הישראלי פועל בתנאי תחרות משוכללת. עקומות הביקוש וההיצע רגילות. כעת המשק נפתח למסחר בינלאומי. מכאן ש:
- במשק יתפתח ייבוא, במידה והמחיר העולמי גבוה מהמחיר שהיה בשיווי משקל.
 - במשק יתפתח ייצוא במידה והמחיר העולמי נמוך מהמחיר שהיה בשיווי משקל.
 - המשק יישאר בשיווי המשקל המקורי ולא יתפתח ייצוא או ייבוא, במידה והמחיר העולמי שווה למחיר שהיה בשיווי משקל.
 - המשק יישאר בשיווי המשקל המקורי ולא יתפתח ייצוא או ייבוא, בכל מקרה.
- (2) ענף הספגטי במשק הישראלי פועל בתנאי תחרות משוכללת. עקומות הביקוש וההיצע רגילות. כעת המשק נפתח למסחר בינלאומי. ידוע שהמחיר העולמי שווה למחיר השורר בארץ. מכאן ש:
- במשק יתפתח ייבוא.
 - במשק יתפתח ייצוא במידה ובמקביל יחול שיפור טכנולוגי בייצור ספגטי בארץ.
 - במשק יתפתח ייצוא במידה ובמקביל תחול עלייה בשכר העבודה בייצור ספגטי בארץ.
 - במשק יתפתח ייצוא במידה ובמקביל תחול ירידה במחיר רוטב לספגטי (מוצר משלים).
- (3) שוק X פועל בתנאי תחרות משוכללת. ידוע שהביקוש למוצר X הוא $P=1000-2Q$. היצע המוצר הוא $P=200+2Q$. המשק נפתח כעת למסחר בינלאומי. המחיר העולמי של מוצר X הוא 700 ₪. מכאן ש:
- במשק יתפתח ייצוא של 100 יחידות והמחיר המקומי יהיה 700 ₪.
 - במשק יתפתח ייבוא של 100 יחידות והמחיר המקומי יהיה 700 ₪.
 - המשק יישאר בשיווי המשקל המקורי ולא יתפתח ייצוא או ייבוא.
 - חסרים נתונים נוספים כדי לקבוע מה יקרה בשיווי משקל.

- 4) שוק X פועל בתנאי תחרות משוכללת. ידוע שהביקוש למוצר X הוא $P=1000-2Q$. המשק נפתח כעת למסחר בינלאומי. המחיר העולמי של מוצר X הוא 500 ש"ח. ידוע שבמחיר זה, הצרכנים במשק מייבאים מחצית מהכמות שהם צורכים. כמו כן, נתון שעקומת ההיצע לינארית ויוצאת מראשית הצירים. מכאן נובע שמשוואת עקומת ההיצע היא:
- $P=Q$.
 - $P=2Q$.
 - $P=3Q$.
 - $P=4Q$.
- 5) שוק X פועל בתנאי תחרות משוכללת. ידוע שהביקוש למוצר X הוא $P=1000-5Q$. היצע המוצר הוא $P=5Q$. המשק נפתח כעת למסחר בינלאומי. המחיר העולמי של המוצר הוא 400 ₪. מכאן ש:
- במשק יתפתח ייבוא והכמות הנצרכת ע"י הצרכנים המקומיים תגדל ב-20%.
 - במשק יתפתח ייצוא והכמות המיוצרת ע"י היצרנים המקומיים תגדל ב-20 יחידות.
 - אם המחיר העולמי היה 550 ₪, לא היה מתפתח כל מסחר.
 - טענות א' וב' נכונות.
- 6) שוק X פועל בתנאי תחרות משוכללת. ידוע שהצרכנים מוציאים סכום קבוע בסך 500 ₪ על המוצר. עקומת ההיצע לינארית ויוצאת מראשית הצירים. המשק נפתח כעת למסחר בינלאומי. המחיר העולמי של מוצר X הוא 25 ₪. כמו כן נתון ש-75% מהכמות הנצרכת מיובאת מחו"ל. מכאן ש:
- אילו המשק היה נסגר למסחר בינלאומי, המחיר בשיווי משקל היה 60 ₪.
 - אם הצרכנים יחליטו להגדיל את הסכום שהם מוכנים להוציא על המוצר פי 2, הייבוא יגדל ב-15 יחידות.
 - שיפור טכנולוגי אצל היצרנים המקומיים יקטין את הייבוא, אך אינו יכול לגרום למצב של ייצוא.
 - אם הממשלה רוצה להפסיק את הייבוא, עליה להטיל מכס של 25 ₪.

פרק 6

התערבות ממשלה – מס / סובסידיה

הערה:

כולל מחיר מינימום ומחיר מקסימום

שאלות:

(1) בשוק X שוררת תחרות משוכללת. הניחו שעקומות ההיצע והביקוש לרגילות (עקומת הביקוש יורדת משמאל לימין ועקומת ההיצע עולה משמאל לימין). הכמות הנמכרת במצב המוצא היא 1000 יחידות. הממשלה נותנת ליצרנים סובסידיה לכל יחידה מיוצרת של 10 ₪. מכאן ש:

- א. רק היצרנים יהנו מהסובסידיה.
- ב. המחיר ליצרן ולצרכן ירד.
- ג. הוצאות הממשלה על הסובסידיה תהיינה גבוהות מ-10,000 ₪.
- ד. המחיר לצרכן ירד ב-10 ₪ בדיוק.

(2) בשוק X שוררת תחרות משוכללת. הניחו שעקומות ההיצע והביקוש לרגילות (עקומת הביקוש יורדת משמאל לימין ועקומת ההיצע עולה משמאל לימין). הממשלה נותנת ליצרנים סובסידיה בגודל קבוע לכל יחידה מיוצרת. מכאן ש:

- א. ככל שעקומת הביקוש גמישה יותר, הירידה במחיר לצרכן תהיה גדולה יותר.
- ב. ככל שעקומת הביקוש קשיחה יותר, העלייה במחיר ליצרן תהיה גדולה יותר.
- ג. ככל שעקומת ההיצע גמישה יותר, הירידה במחיר לצרכן תהיה קטנה יותר.
- ד. ככל שעקומת ההיצע קשיחה יותר, העלייה במחיר ליצרן תהיה גדולה יותר.
- ה. השינוי במחירים אינו תלוי בגמישויות של עקומות ההיצע והביקוש.

5) בשוק X שוררת תחרות משוכללת. עקומת הביקוש היא $P=250-5Q$. עקומת ההיצע ליניארית ויוצאת מראשית הצירים. במצב המוצא, מחיר שיווי משקל הוא 125 ₪. הממשלה נתנה ליצרנים סובסידיה שהורידה את מחיר המוצר לצרכן ב-20%. מכאן ש:

- המחיר ליצרן (לאחר הסובסידיה) יעלה ב-25%.
- הכמות המיוצרת בשיווי המשקל החדש תגדל ב-20%.
- הוצאות הממשלה על הסובסידיה יהיו בגובה 1,250 ₪.
- אם הממשלה הייתה קובעת מחיר מקסימום של 75 ₪, הייתה נדרשת סובסידיה של 75 ₪.

6) הצרכנים מוכנים להוציא סכום קבוע לצפייה בסרטי קולנוע ישראליים. ידוע שהיצע הסרטים עולה משמאל לימין. המחיר בשיווי משקל הוא 33 ₪ והכמות הנרכשת היא 10,000 כרטיסים בחודש. המועצה לעידוד הקולנוע הישראלי החליטה לתת סובסידיה לבתי הקולנוע, כך שהמחיר לצרכן בשיווי משקל ירד ל-30 ₪. תקציב הסובסידיה הדרוש הוא:

- 33,000 ₪ בחודש.
- יותר מ-33,000 ₪ בחודש.
- לא ניתן לומר בוודאות.
- פחות מ-33,000 ₪ בחודש.

8) בשוק X, עקומות ביקוש והיצע רגילות. הממשלה מחליטה לקבוע מחיר מינימום. לשם כך היא בוחנת שתי דרכים לתמוך בשמירה על מחיר המינימום:
- סובסידיה ליצרן על כל יחידה מיוצרת.
- קניית עודפים.

- הצרכנים מעדיפים את השיטה הראשונה, ואילו היצרנים אדישים בין השתיים.
- הוצאות הממשלה שוות בשתי הדרכים.
- הצרכנים והיצרנים אדישים בין שתי הדרכים.
- היצרנים אדישים בין שתי הדרכים המוצעות ובין דרך שלישית של מכסת ייצור.

9) בשוק החלב, עקומות ביקוש והיצע רגילות. המחיר בשיווי משקל הוא 5 ₪ והממשלה מחליטה לקבוע מחיר מקסימום של 3 ₪. לשם כך היא שוקלת לתת ליצרנים סובסידיה של 2 ₪ או למכור לצרכנים את עודפי הביקוש. צעד כזה יוביל ל:

- סובסידיה של 2 ₪ ליצרן תשיג את המטרה.
- סובסידיה של 2 ₪ ליצרן תגרום לעודף ביקוש בשוק החלב.
- היצרנים אדישים בין שתי הדרכים המוצעות.
- הצרכנים מעדיפים שהממשלה תיתן סובסידיה.

- 12** בשוק X שורר שיווי משקל של תחרות משוכללת והמחיר בשוק הוא 40 ₪. עקומות ההיצע והביקוש רגילות. הממשלה שוקלת שתי שיטות לתת סובסידיה ליצרנים על כל יחידה מיוצרת: שיטה א': סובסידיה בסך 20 ₪ ליחידה; שיטה ב': סובסידיה בגובה 50% מהמחיר ליצרן.
- א. הצרכנים יעדיפו את שיטה א' ואילו היצרנים יעדיפו את שיטה ב'.
 - ב. הצרכנים יעדיפו את שיטה ב' ואילו היצרנים יעדיפו את שיטה א'.
 - ג. הצרכנים והיצרנים יעדיפו את שיטה א'.
 - ד. הצרכנים והיצרנים יעדיפו את שיטה ב'.

- 13** בשוק X ובשוק Y, עקומות ביקוש והיצע רגילות. בשני השווקים מוטל מס על היצרנים על כל יחידה מיוצרת. הממשלה מחליטה להגדיל את המס בשוק X.
- א. אם Y הוא מוצר משלים למוצר X, תקטנה ההוצאות של הצרכנים על מוצר Y.
 - ב. אם Y הוא מוצר תחליפי למוצר X, הכנסות הממשלה ממיסים תגדלנה בשני השווקים.
 - ג. הוצאות הצרכנים על מוצר X תקטנה.
 - ד. אם Y הוא מוצר תחליפי למוצר X, ירד מחירו של מוצר Y.

- 14** בשוק מוצר X שורר שיווי משקל של תחרות משוכללת והמחיר בשוק הוא 20 ₪. עקומות ההיצע והביקוש רגילות. ידוע שהמשק סגור למסחר בינלאומי והמחיר העולמי של מוצר X הוא 30 ₪. הממשלה שוקלת שלוש שיטות לעודד את הייצור המקומי:
- שיטה א': פתיחת המשק למסחר בינלאומי;
 - שיטה ב': סובסידיה בסך 10 ₪ לכל יחידה מיוצרת;
 - שיטה ג': קביעת מחיר מינימום של 30 ₪ וקניית העודפים.
- להלן מספר טענות על השפעת השיטות השונות:
- א. המחיר ליצרן ולצרכן יהיה 30 ₪ בכל השיטות.
 - ב. הוצאות הממשלה תהיינה זהות בכל השיטות.
 - ג. היצרנים אדישים בין הפעלת שיטות א' וג' ומעדיפים אותן על פני שיטה ב'.
 - ד. הצרכנים אדישים בין הפעלת שיטות א' וג' ומעדיפים אותן על פני שיטה ב'.

- 16** X ו-Y הם מוצרים תחליפיים הנמכרים בתנאי תחרות משוכללת. עקומות ההיצע והביקוש רגילות. במצב המוצא מוטל מס על כל יחידה מיוצרת בשוק מוצר X. הממשלה מחליטה לקבוע מחיר מקסימום בשוק מוצר Y ולספק את עודפי הביקוש. פעולה זו תגרום לאחד מהשינויים הבאים:
- א. תקטין בהכרח את הכנסות הממשלה ממס בשוק X.
 - ב. תגדיל בהכרח את רווחי יצרני מוצר X, אך לא ידוע אם תגדיל את רווחי יצרני מוצר Y.
 - ג. תגדיל בהכרח את הוצאות צרכני מוצר Y, אך לא ידוע אם תגדיל את הוצאות צרכני מוצר X.
 - ד. אילו הממשלה הייתה נותנת סובסידיה ליצרנים בשוק Y כדי להוריד את המחיר לצרכנים במקום קביעת מחיר מקסימום, מצב הצרכנים והיצרנים היה משתפר בשני השווקים.

- 22** בשוק מוצר X שורר שיווי משקל של תחרות משוכללת. הממשלה מטילה על היצרנים מס לכל יחידה מיוצרת. לאחרונה גדלו הכנסות הממשלה מהמס, מבלי שחל שינוי בגובה המס ליחידה. מה יכול להיות הסבר אפשרי לתופעה זו:
- א. הכנסות הצרכנים גדלו והמוצר ניטראלי עבורם.
 - ב. חלה עלייה בשכר העובדים בענף X.
 - ג. חל שיפור טכנולוגי בענף X.
 - ד. עלה מחיר של מוצר משלים למוצר X.

(24) בשוק מוצר X שורר שיווי משקל של תחרות משוכללת. עקומות הביקוש וההיצע רגילות. הממשלה קבעה מחיר מינימום. כעת הממשלה שוקלת שלוש שיטות להבטיח את מחיר המינימום, על מנת לתמוך ביצרנים:

1. סובסידיה לכל יחידה מיוצרת.
 2. קניית עודפים (עודפי היצע).
 3. קביעת מכסות ייצור.
- להלן מספר טענות:

- א. המחיר לצרכן יעלה בשלוש השיטות.
- ב. הגידול ברווחי היצרנים זהה בשלוש השיטות.
- ג. הוצאות הממשלה זהות בשלוש השיטות.
- ד. כל הטענות האחרות אינן נכונות.

(26) בשוק מוצר X שורר שיווי משקל של תחרות משוכללת. עקומות הביקוש וההיצע רגילות. הממשלה שוקלת שתי שיטות להבטיח מחיר המינימום, על מנת לתמוך ביצרנים:

1. סובסידיה לכל יחידה מיוצרת.
 2. קניית עודפים (עודפי היצע).
- להלן מספר טענות:

- א. אם גמישות הביקוש קטנה מיחידתית, אז הוצאות הממשלה בשיטה השנייה (קניית עודפים) תהיינה גדולות יותר.
- ב. אם גמישות הביקוש גדולה מיחידתית, אז הוצאות הממשלה בשיטה הראשונה (סובסידיה לכל יחידה מיוצרת) תהיינה גדולות יותר.
- ג. לא ניתן ללא מידע נוסף על גמישות ההיצע.
- ד. אם גמישות הביקוש יחידתית, אז הוצאות הממשלה זהות בשתי השיטות.

תשובות סופיות (יש להתייחס רק לשאלות המופיעות בספר):

ד (4	א (3	ב (2	ג (1
ד (8	ג (7	ד (6	א (5
ג (12	ב (11	ב (10	א (9
ג (16	ד (15	א (14	ב (13
ב (20	א (19	ב (18	א (17
ד (24	ב (23	ד (22	א (21
א (28	ב (27	א (26	ד (25
ד (32	ג (31	ג (30	א (29
ב (36	ד (35	ב (34	ג (33

פרק 7

כשל שוק - מונופול

שאלות:

לפרק זה יש תרגילים לדוגמה בסרטונים בלבד

פרק 8

כשלי שוק אחרים

שאלות:

לפרק זה יש תרגילים לדוגמה בסרטונים בלבד

פרק 9

מושגי יסוד במאקרו כלכלה

שאלות:

שאלה 1

להלן נתוני החשבונאות הלאומית של משק בשנה מסוימת (במיליארדי ₪):

1. הצריכה הפרטית 60
2. הצריכה הציבורית 20
3. ההשקעה הגולמית 30
4. הייצוא 10
5. הייבוא 15
6. פחת 2

מנתונים אלו ניתן להסיק, כי בשנה זו:

- א. התוצר הלאומי הגולמי היה 105 והתוצר הלאומי הנקי היה 100.
- ב. התוצר הלאומי הגולמי היה 105 וההשקעה הנקיה הייתה 20.
- ג. במשק קיים עודף ייצוא של 5.
- ד. התוצר הלאומי הנקי היה 103 וההשקעה הנקיה הייתה 28.

שאלה 2

מנתוני שאלה 1 ניתן להסיק, כי בשנה זו :

- א. החיסכון הציבורי היה 5.
- ב. השימושים גדולים מהמקורות במשק זה.
- ג. כל הטענות האחרות אינן נכונות.
- ד. החיסכון הלאומי הנקי היה 23.

שאלה 3

להלן נתוני החשבונאות הלאומית של משק בשנת 2003 :

- ← מסים עקיפים נטו - 300 מיליון ש"ח ;
- ← מסים ישירים נטו - 400 מיליון ש"ח ;
- ← הכנסה לאומית - 1200 מיליון ש"ח ;
- ← רווחים שלא חולקו - 100 מיליון ש"ח ;
- ← פחת - 60 מיליון ש"ח.

מנתונים אלו ניתן להסיק, כי בשנת 2003

- א. התוצר הלאומי הנקי 1900 מיליון ש"ח וההכנסה הפנויה 700 מיליון ש"ח.
- ב. התוצר הלאומי הנקי 1500 מיליון ש"ח וההכנסה הפנויה 700 מיליון ש"ח.
- ג. התוצר הלאומי הגולמי 1560 מיליון ש"ח וההכנסה הפנויה 500 מיליון ש"ח.
- ד. התוצר הלאומי הגולמי 1960 מיליון ש"ח וההכנסה הפנויה 500 מיליון ש"ח.
- ה. כל הטענות האחרות אינן נכונות.

שאלה 4

להלן נתונים על משק בשנת 2000 (במיליוני ש"ח):

900	-	צריכה פרטית
30	-	פחת
500	-	צריכה ציבורית
350	-	מס הכנסה
80	-	מסים עקיפים נטו
250	-	תשלומי העברה
150	-	השקעה נקייה
40	-	עודף יבוא
0	-	רווחים שלא חולקו

מכאן ניתן להסיק, כי בשנת 2000 היו:

- א. התוצר הלאומי הגולמי 1510, ההכנסה הפנויה 1430 והחיסכון האישי 430.
- ב. התוצר הלאומי הנקי 1510, ההכנסה הפנויה 1330 והחיסכון האישי 430.
- ג. התוצר הלאומי הגולמי 1540, ההכנסה הפנויה 1430 והחיסכון האישי שלילי.
- ד. כל הטענות האחרות אינן נכונות.

שאלה 5

בהמשך לנתוני השאלה הקודמת, נתון גם שההכנסות משכר במשק הן בסך 830 :

- א. החיסכון הציבורי 320, החיסכון במשק 110 וההכנסה הלאומית היא 1430.
- ב. הגירעון הציבורי 320, החיסכון במשק 110 והרווחים במשק הם 600.
- ג. החיסכון הציבורי 320, החיסכון במשק 110 והרווחים במשק הם 600.
- ד. הגירעון הציבורי 320, החיסכון במשק 430 וההכנסה הלאומית היא 1430.

שאלה 6

להלן נתונים על משק בשנת 2001 (במיליוני ש"ח):

1900	-	השקעה גולמית
50	-	פחת
1500	-	צריכה ציבורית
500	-	מס הכנסה
250	-	קצבאות שונות ודמי אבטלה
1500	-	הכנסות משכר
2500	-	הכנסות מרווחים
400	-	עודף יבוא
50	-	רווחים שלא חולקו

בנוסף ידוע שלא מוטלים כל מיסים נוספים ולא משולמות כל קצבאות או סובסידיות נוספות.

מכאן ניתן להסיק, כי בשנת 2000 היו:

- התוצר הלאומי הגולמי 4050, ההכנסה הפנויה 3700 והחיסכון הלאומי 1450.
- התוצר הלאומי הנקי 4050, ההכנסה הפנויה 4000 והחיסכון האישי 2650.
- התוצר הלאומי הגולמי 4000, ההכנסה הפנויה 3700 והחיסכון הממשלתי שלילי.
- כל הטענות האחרות אינן נכונות.

שאלה 7

בהמשך לנתוני השאלה הקודמת ניתן להסיק כי :

- א. הגירעון הציבורי 1500, החיסכון במשק 1350 והצריכה הפרטית 1050.
- ב. הגירעון הציבורי 0, החיסכון במשק 2650 והצריכה הפרטית 1050.
- ג. הגירעון הציבורי 1250, החיסכון במשק 2650 והצריכה הפרטית 1000.
- ד. הגירעון הציבורי 1250, החיסכון במשק 1450 והצריכה הפרטית 1050.

שאלה 8

- א. ייתכן מצב שבו השימושים גדולים מהמקורות.
- ב. ייתכן מצב שבו אחד השימושים או סכום של כמה מהם גבוה מהתוצר הלאומי הגולמי.
- ג. ייתכן מצב שההשקעה הגולמית תהיה שלילית.
- ד. לא ייתכן מצב שבו ההשקעה של המשק תהיה גבוהה מהחיסכון של המשק.

שאלה 9

מנתוני החשבונאות הלאומית של שנה מסוימת נובע כי סך הצריכה הפרטית וההשקעה הגולמית היו גדולים מהתל"ג. מכאן נובע כי :

- א. יש טעות בנתונים.
- ב. ההשקעה הנקייה שלילית.
- ג. קיים גירעון בתקציב הממשלה.
- ד. המשק הוא בהכרח משק פתוח והייבוא גבוה מהייצוא.
- ה. כל הטענות האחרות שגויות.

שאלה 10

מנתוני החשבונאות הלאומית של משק בשנה הנוכחית נובע כי:
התוצר הלאומי גדל, עודף היצוא קטן, הצריכה הפרטית, הצריכה הציבורית והמסים -
לא השתנו, ואילו תשלומי ההעברה גדלו.

מנתונים אלו ניתן להסיק, כי:

- א. החיסכון במשק קטן.
- ב. ההשקעה גדלה והגירעון בתקציב הממשלה גדל.
- ג. ההשקעה גדלה והגירעון בתקציב הממשלה קטן.
- ד. כל הטענות האחרות אינן נכונות.

שאלה 11

מנתוני החשבונאות הלאומית של משק בשנה הנוכחית נובע כי:
התוצר הלאומי קטן, החיסכון האישי גדל, עודף היבוא גדל, ההשקעה הנקיה, החיסכון
העיסקי והמסים נטו - לא השתנו. מנתונים אלו ניתן להסיק, כי:

- א. הצריכה הפרטית לא השתנתה.
- ב. הצריכה הפרטית והגירעון בתקציב הממשלה גדלו.
- ג. הצריכה הפרטית קטנה והגירעון בתקציב הממשלה קטן.
- ד. הצריכה הפרטית קטנה והגירעון בתקציב הממשלה גדל.

שאלה 12

מנתוני החשבונאות הלאומית של משק בשנה הנוכחית (אלפי ש"ח) נובע כי:
הצריכה הפרטית 15,000, הצריכה הציבורית 7,000 והחיסכון הנקי במשק 8,000.
להלן מספר טענות:

- א. התוצר הנקי במשק הוא 30,000.
- ב. רק אם המשק סגור, התוצר הנקי במשק הוא 30,000.
- ג. רק אם המשק פתוח, התוצר הנקי במשק הוא 30,000.
- ד. לא ניתן לומר בוודאות מה גודל התוצר.

חלק ב – תוצר ריאלי ונומינלי

הערה: כל התשובות הן קירוב לתוצאה הנכונה.

חלק ב' - שאלה 1

ידועים הנתונים הבאים:

התוצר הלאומי הגולמי עלה מ- 1000 מיליארדי שקל בשנת 2007 ל- 1050 מיליארדי שקל בשנת 2008. מדד מחירי התוצר הלאומי עלה ב- 3% בשנת 2008. בכמה השתנה התוצר הריאלי בשנת 2008 לעומת 2007?

- א. ב 1.94%.
- ב. ב 8%.
- ג. ב 5%.
- ד. ב 3%.

חלק ב' - שאלה 2

ידועים הנתונים הבאים :

התוצר הלאומי הגולמי עלה מ- 1000 מיליארדי שקל בשנת 2000 ל- 1020 מיליארדי שקל בשנת 2001. מדד המחירים בשנת 2000 היה 120 ובשנת 2001 היה 126. בכמה השתנה התוצר הריאלי בשנת 2001 לעומת 2000?

- א. התוצר הריאלי קטן ב 2.857%.
- ב. התוצר הריאלי קטן ב 3%.
- ג. התוצר הריאלי גדל ב 3%.
- ד. התוצר הריאלי גדל ב 2.857%.

חלק ב' - שאלה 3

ידועים הנתונים הבאים :

התוצר במחירים שוטפים עלה ב 20% בשנת 2001. מדד המחירים בשנת 2001 עלה ב 12%. בכמה השתנה התוצר הריאלי בשנת 2001?

- א. התוצר הריאלי קטן ב 7.1%.
- ב. התוצר הריאלי קטן ב 32%.
- ג. התוצר הריאלי גדל ב 32%.
- ד. התוצר הריאלי גדל ב 7.1%.

חלק ב' - שאלה 4

ידועים הנתונים הבאים :

התוצר הלאומי הגולמי עלה מ- 4000 מיליארדי שקל בשנת 2008 ל- 5184.6 מיליארדי שקל בשנת 2010. מדד המחירים עלה בשנת 2009 ב 3% ובשנת 2010 עלה המדד בעוד 4%. בכמה השתנה התוצר הריאלי בשנת 2010 לעומת 2008? מה היה הגידול הריאלי הממוצע בין השנים 2008-2010?

- א. התוצר הריאלי גדל בין השנים 2008-2010 ב 21%, והגידול הממוצע היה 10%.
- ב. התוצר הריאלי גדל בין השנים 2008-2010 ב 21%, והגידול הממוצע היה 10.5%.
- ג. התוצר הריאלי גדל בין השנים 2008-2010 ב 24.6%, והגידול הממוצע היה 12.3%.
- ד. התוצר הריאלי גדל בין השנים 2008-2010 ב 24.6%, והגידול הממוצע היה 11.6%.

חלק ב' - שאלה 5

ידועים הנתונים הבאים :

התוצר הלאומי הגולמי עלה מ- 2200 מיליארדי שקל בשנת 2000 ל- 2420 מיליארדי שקל בשנת 2001. מדד מחירי התוצר הלאומי עלה ב- 4% בשנת 2001. האוכלוסייה גדלה ב 3%. מכאן ש :

- א. התוצר הריאלי לנפש קטן ב 3%.
- ב. התוצר הנומינלי לנפש גדל ב 6.8%.
- ג. התוצר הנומינלי לנפש גדל ב 3%.
- ד. התוצר הריאלי לנפש גדל ב 3%.

חלק ב' - שאלה 6

ידועים הנתונים הבאים :

התוצר הנומינלי גדל ב 8% בשנת 2001. מדד מחירי התוצר הלאומי עלה ב- 2% בשנת 2001. האוכלוסיה גדלה ב 4%. מכאן ש :

- א. התוצר הריאלי לנפש קטן ב 3%.
- ב. התוצר הנומינלי לנפש גדל ב 6.8%.
- ג. התוצר הנומינלי לנפש גדל ב 3%.
- ד. התוצר הריאלי לנפש גדל ב 1.8%.

חלק ב' - שאלה 7

ידועים הנתונים הבאים :

התוצר הלאומי הגולמי עלה מ- 2,000 מיליארדי שקל בשנת 2006 ל- 2,317.67 מיליארדי שקל בשנת 2008. מדד המחירים בשנת 2006 היה 138 ובשנת 2008 היה 144.9. בין השנים 2006-2008, האוכלוסיה גדלה מ 6 מיליון ל 6.24 מיליון.

- א. התוצר הריאלי גדל בין השנים 2006 – 2008 ב 6.1%, והגידול הממוצע בו היה 3%.
- ב. התוצר הריאלי לנפש גדל בין השנים 2006 – 2008 ב 6.1%, והגידול הממוצע בו היה 2%.
- ג. התוצר הריאלי גדל בין השנים 2006 – 2008 ב 10.3%, והגידול הממוצע בו היה 6.1%.
- ד. התוצר הריאלי גדל בין השנים 2006 – 2008 ב 10.3%, והגידול הממוצע בו היה 3%.

פרק 10

מודל קיינס

שאלות:

שאלה 1

להלן נתונים על משק סגור (במיליוני ש"ח):

הביקוש לצריכה פרטית: $C = 2000 + 0.6Y_d$, C) הצריכה הפרטית ו- Y_d ההכנסה הפנויה).

הביקוש להשקעה: $I = 1600 + 0.15Y$, כאשר I ההשקעה ו- Y התוצר.

הצריכה הציבורית שווה ל- 1,000, והממשלה מממנת את כל הוצאותיה ע"י מסים קבועים. התוצר של תעסוקה מלאה שווה ל- 20,000.

להלן מספר טענות:

- תוצר בשיווי משקל 16,000 והפער הדיפלציוני 4,000.
- תוצר בשיווי משקל 16,000 והפער הדיפלציוני 1,000.
- פער התוצר 1,600 והפער הדיפלציוני 4,000.
- חסרים נתונים כדי למצוא את גובה התוצר.

שאלה 2

להלן נתונים על משק סגור (במיליארדי ש"ח):

הביקוש לצריכה פרטית: $C = 250 + 0.8Y_d$, C) הצריכה הפרטית ו- Y_d ההכנסה הפנויה).

הביקוש להשקעה: $I = 160 + 0.15Y$, כאשר I ההשקעה ו- Y התוצר.

הצריכה הציבורית שווה ל- 170, והממשלה מטילה מסים קבועים בסך 100 ומס יחסי של 25%. התוצר של תעסוקה מלאה שווה ל- 2500.

להלן מספר טענות:

- א. תוצר בשיווי משקל 2,000 והפער הדיפלציוני 125.
- ב. תוצר בשיווי משקל 10,000
- ג. פער התוצר 500 והפער הדיפלציוני 500.
- ד. חסרים נתונים כדי למצוא את גובה התוצר.

שאלה 3

להלן נתונים על משק סגור (במיליארדי ש"ח):

תוצר תעסוקה מלאה – 500, תוצר שיווי משקל – 450 והפער הדיפלציוני – 10. מכאן שמשוואת הביקוש המצרפי היא:

א. $AD = 100 + 0.8Y$

ב. $AD = 500 + 0.75Y$

ג. $AD = 90 + 0.8Y$

ד. אין מספיק נתונים למציאת הביקוש המצרפי.

שאלה 4

להלן נתונים על משק סגור (במיליארדי ש"ח):

תוצר תעסוקה מלאה – 5000, תוצר שיווי משקל – 4000, הפער הדיפלציוני – 250, הנטייה השולית לצרוך – 0.8 והנטייה השולית להשקיע – 0.15. במשק מוטל מס יחסי. מהו גובה המס היחסי שעל הממשלה לקבוע, על מנת שהמשק יגיע לתעסוקה מלאה?

א. 20%

ב. 18.75%

ג. 15%

ד. אין מספיק נתונים לקבוע את גובה המס היחסי.

שאלה 5

להלן נתונים על משק סגור (במיליארדי ש"ח):

תוצר תעסוקה מלאה – 5000, תוצר שיווי משקל – 4000, הנטייה השולית לצרוך – 0.8 והנטייה השולית להשקיע – 0.10. במשק לא מוטלים מיסים. מה על הממשלה לעשות, על מנת שהמשק יגיע לתעסוקה מלאה (התעלם משהפעת שוק הכסף על שוק הסחורות)?

- א. להגדיל את הצריכה הציבורית ב 100 תוך שהיא שומרת על תקציב מאוזן (מימון ע"י מיסים).
- ב. להגדיל את הצריכה הציבורית ב 1000 במימון מלווה מהציבור.
- ג. להגדיל תשלומי העברה בסך 125.
- ד. להטיל מיסים קבועים בסך 1000.

שאלה 6

נתון כי תוצר תעסוקה מלאה גדול מהתוצר בשיווי משקל ב- 1200, הנטייה השולית לחסוך – 0.25 עוד נתון כי המיסים וההשקעות במשק אינם תלויים ברמת התוצר. מה על הממשלה לעשות, על מנת שהמשק יגיע לתעסוקה מלאה (התעלם מהשפעת שוק הכסף על שוק הסחורות)?

- א. להגדיל את הצריכה הציבורית ב 1200 תוך מימון ע"י מיסים.
- ב. להגדיל את הצריכה הציבורית ב 1200 במימון מלווה מהציבור.
- ג. להגדיל תשלומי העברה בסך 1200 במימון מלווה מהציבור.
- ד. להקטין מיסים קבועים בסך 1200 במימון מלווה מהציבור.

שאלה 7

במשק יש פער דפלציוני בגודל 300. המכפיל שווה 5 והנטייה השולית לצרוך 0.5. הממשלה מעוניינת לסגור את הפער הדפלציוני. איזה צעד רצוי:

- א. הגדלת הצריכה הציבורית ב 150
- ב. הגדלת הצריכה הציבורית ב 300 ומימונה ע"י מיסים
- ג. הקטנת המיסים ב 300.
- ד. הקטנת המיסים ב 300 והגדלת הצריכה הציבורית של 150

שאלה 8

משק סגור מצוי באבטלה. נתון שהנטייה השולית לצרוך מתוך ההכנסה הפנויה שווה 0.5 והנטייה השולית להשקיע שווה 0.3. במשק לא מוטלים מיסים יחסיים. הממשלה מעוניינת להביא את המשק לתעסוקה מלאה ובוחרת לשם כך שתי אפשרויות:

- א. הגדלת הצריכה הציבורית במימון של הגדלת מיסים.
- ב. הקטנת המיסים במימון ע"י מכירת אגרות חוב לציבור.

להלן מספר טענות:

- א. השינוי הדרוש בצריכה הציבורית בשיטה א' גבוה מהשינוי הדרוש במיסים (בערך מוחלט) בשיטה ב'.
- ב. השינוי הדרוש בצריכה הציבורית בשיטה א' נמוך מהשינוי הדרוש במיסים (בערך מוחלט) בשיטה ב'.
- ג. הצריכה הפרטית תקטן בשיטה א' ותגדל בשיטה ב'.
- ד. כל הטענות האחרות אינן נכונות.

שאלה 9

משק סגור מצוי באבטלה. ידוע שרמת ההשקעות אינה תלויה ברמת בתוצר. הממשלה מעוניינת להביא את המשק לתעסוקה מלאה ובוחנת לשם כך שתי אפשרויות: הראשונה, הגדלת הצריכה הציבורית במימון של הגדלת מיסים והשנייה, הגדלת הצריכה הציבורית במימון ע"י מכירת אגרות חוב לציבור. להלן מספר טענות:

- א. אין הבדל ברמת הצריכה הפרטית וההשקעות במשק בשני המיקרים.
- ב. רמת הצריכה הפרטית תהיה גבוהה יותר באפשרות השנייה ואילו רמת ההשקעות תהיה זהה.
- ג. רמת הצריכה הפרטית וההשקעות תהיה גבוהה יותר באפשרות השנייה.
- ד. באפשרות הראשונה, הצריכה הפרטית תקטן וההשקעות לא ישתנו.

שאלה 10

משק סגור מצוי באבטלה. ידוע שרמת ההשקעות אינה תלויה ברמת בתוצר ואין מיסים יחסיים. נתון שמכפיל קיינס שווה 4. הממשלה מגדילה צריכה ציבורית ב- 100, כדי להביא את המשק לתעסוקה מלאה. אם ידוע שהממשלה נוקטת בתקציב מאוזן (מימון ע"י מיסים) אזי:

- א. התוצר יגדל ב- 400 והצריכה הפרטית תגדל בפחות מ- 400.
- ב. התוצר יגדל ב- 100 והצריכה הפרטית תגדל בפחות מ- 100.
- ג. התוצר יגדל ב- 400 והצריכה הפרטית לא תשתנה.
- ד. התוצר יגדל ב- 100 והצריכה הפרטית לא תשתנה.

שאלה 11

משק סגור מצוי באבטלה. ידוע שרמת ההשקעות אינה תלויה ברמת בתוצר ואין מיסים יחסיים. הממשלה מגדילה צריכה ציבורית כדי להביא את המשק לתעסוקה מלאה. אם ידוע שהממשלה נוקטת בתקציב מאוזן (מימון ע"י מיסים) אזי:

- א. מכפיל תקציב מאוזן שווה 1 אם הנטייה השולית גדולה מ 0.5.
- ב. מכפיל תקציב מאוזן מראה את היחס בין השינוי בביקוש המצרפי לשינוי בתוצר.
- ג. מכפיל תקציב מאוזן בודק אם התוצר יישאר מאוזן ברמתו המקורית.
- ד. מכפיל תקציב מאוזן תמיד נמוך ממכפיל קיינס.

שאלה 12

משק סגור מצוי בפער דיפלציוני. נתון שהנטייה השולית לצרוך מתוך ההכנסה הפנויה שווה 0.5 והנטייה השולית להשקיע שווה 0.3. במשק לא מוטלים מיסים יחסיים. הממשלה מגדילה את הצריכה הציבורית ב – 100 ומממנת זאת ע"י אג"ח. מכאן ש:

- א. הצריכה הפרטית תגדל ב – 250 וההשקעות יגדלו ב- 250.
- ב. הצריכה הפרטית תגדל ב – 250 וההשקעות יגדלו ב- 150.
- ג. הצריכה הפרטית תגדל ב – 250 וההשקעות לא ישתנו.
- ד. הצריכה הפרטית תגדל ב – 400 וההשקעות לא ישתנו.

שאלה 13

משק סגור מצוי בפער דיפלציוני. נתון שהנטייה השולית לצרוך מתוך ההכנסה הפנויה שווה 0.6 והנטייה השולית להשקיע שווה 0.15. במשק לא מוטלים מיסים יחסיים. הממשלה מגדילה את תשלומי ההעברה ב – 100 ומממנת זאת ע"י אג"ח. מכאן ש :

- א. הצריכה הפרטית תגדל ב – 204 וההשקעות יגדלו ב- 36.
- ב. הצריכה הפרטית תגדל ב – 100 וההשקעות יגדלו ב- 140.
- ג. הצריכה הפרטית תגדל ב – 240 וההשקעות לא ישתנו.
- ד. הצריכה הפרטית תקטן ב – 240 וההשקעות לא ישתנו.

שאלה 14

משק סגור מצוי באבטלה. הפער הדיפלציוני שווה 500. נתון שהנטייה השולית לצרוך מתוך ההכנסה הפנויה שווה 0.5 והנטייה השולית להשקיע שווה 0.1. במשק לא מוטלים מיסים יחסיים. הממשלה מגדילה את הצריכה הציבורית ב - 500 ומממנת זאת ע"י מיסים. מכאן ש :

- א. הצריכה הפרטית תקטן וההשקעות יגדלו.
- ב. הצריכה הפרטית וההשקעות יגדלו באותה מידה.
- ג. הצריכה הפרטית וההשקעות לא ישתנו והתוצר יגדל ב – 500.
- ד. מכפיל תקציב מאוזן שווה 1.

שאלה 15

משק סגור מצוי באבטלה. הפער הדיפלציוני שווה 500. נתון שהנטייה השולית לצרוך מתוך ההכנסה הפנויה שווה 0.5 והנטייה השולית להשקיע שווה 0.1. במשק לא מוטלים מיסים יחסיים. הציבור החליט להגדיל את החיסכון האישי ב - 100 בכל רמת הכנסה פנויה. מכאן ש:

- א. הצריכה הפרטית תקטן וההשקעות יגדלו.
- ב. הצריכה הפרטית וההשקעות יקטנו באותה מידה.
- ג. החיסכון במשק יגדל ביותר מ - 100.
- ד. החיסכון במשק יקטן בפחות מ - 100.

שאלה 16

משק סגור מצוי באבטלה. הנטייה השולית להשקיע חיובית. במשק לא מוטלים מיסים יחסיים. שר האוצר הציע לפתור את בעיית המיתון ע"י הגדלת צריכה הציבורית ב - 100, גם על חשבון הגירעון בתקציב. יועץ ראש הממשלה הציע להקטין את המיסים ב - 100, מפני שבצורה זו גם התעסוקה וגם החיסכון במשק יגדלו יותר.

- א. בשתי ההצעות יגדלו התוצר והחיסכון הלאומי באותה מידה.
- ב. התוצר והחיסכון הלאומי יגדלו יותר בהצעת שר אוצר.
- ג. התוצר יגדל יותר בהצעת שר אוצר, והחיסכון הלאומי יגדל יותר בהצעת יועץ ראש הממשלה.
- ד. לא ניתן לומר בוודאות ללא מידע על הנטייה השולית לצרוך.

פרק 11

בנקים שאלות:

שאלה 1

להלן נתונים על המערכת הבנקאית:

בסיס הכסף - 5,000

מזומן בידי הציבור – 3,000

יחס הרזרבה כנגד פיקדונות עו"ש - 0.25.

מכאן ניתן להסיק, כי:

- א. כמות הכסף במשק היא 11,000 ש"ח.
- ב. כמות הכסף במשק היא 8,000 ש"ח.
- ג. ההלוואות במשק הן 5,000 ש"ח.

שאלה 2

להלן נתונים על המערכת הבנקאית:

בסיס הכסף - 5,000, הלוואות – 4,000

יחס הרזרבה כנגד פיקדונות עו"ש - 0.20

מכאן ניתן להסיק, כי:

- א. כמות הכסף במשק היא 11,000 ש"ח.
- ב. כמות הכסף במשק היא 9,000 ש"ח.
- ג. הרזרבה 2,000 ש"ח.
- ד. לא ניתן לומר בוודאות מה כמות הכסף ללא נתונים נוספים.

שאלה 3

הרזרבות של הבנקים המסחריים 4,500 ש"ח ופקדונות העו"ש בסך של 9,000 ש"ח. ידוע כי הבנקים תמיד עומדים ביחס הרזרבה הדרוש. פדיון של אג"ח ע"י הבנק המרכזי, יצר עירווי חיצוני חיובי בסך 1,500 ש"ח. כתוצאה מכך:

- א. כמות הכסף לא תשתנה.
- ב. כמות הכסף תגדל ב- 3,000 ש"ח.
- ג. סכום ההלוואות של הבנקים לציבור יגדל ב- 3,000 ש"ח.
- ד. סכום ההלוואות של הבנקים לציבור יקטן.
- ה. בסיס הכסף לא ישתנה.

שאלה 4

נתונים שני משקים זהים בהם יחס הרזרבה כנגד פקדונות עו"ש = 0.25. ידוע כי הבנקים תמיד עומדים ביחס הרזרבה הדרוש. בשני המשקים, הממשלה קנתה אג"ח מהציבור בסך 1000. במשק א', הציבור הפקיד את כל הסכום בחשבון העו"ש. במשק ב', הציבור החליט להגדיל אחזקותיו במזומן ב 200. להלן מספר טענות:

- א. כמות הכסף תגדל באותה מידה בשני המשקים.
- ב. בסיס הכסף יגדל באותה מידה בשני המשקים.
- ג. ההלוואות תגדלנה באותה מידה בשני המשקים.
- ד. כמות הכסף תהיה גדולה יותר ב- 600 במשק א'.
- ה. טענות ב' וד' נכונות.

שאלה 5

במערכת הבנקאות של משק ידועים הנתונים הבאים:

כמות הכסף היא 2500, יחס הרזרבה כנגד פקדונות עו"ש 0.25. כמו כן ידוע שהציבור במשק מעוניין תמיד לשמור 4 ש"ח בפקדונות העו"ש על כל 1 ש"ח מזומן שבידיו. מכאן ש:

- א. בסיס הכסף הוא 1200.
- ב. רזרבות הבנקים הן 625.
- ג. ההלוואות לציבור הן 2000.
- ד. פקדונותה עו"ש הם 2000.
- ה. כל התשובות האחרות אינן נכונות.

שאלה 6

הבנק המרכזי החליט להגדיל את יחס הרזרבה כנגד פקדונות עו"ש פי שתיים. מכאן ש:

- א. בסיס הכסף יגדל.
- ב. רזרבות הבנקים תקטנה.
- ג. ההלוואות לציבור יקטנו.
- ד. כמות הכסף תקטן ביותר מפי שתיים.
- ה. כמות הכסף תקטן פי שתיים.

שאלה 7

← הבנק המרכזי הגדיל פי 2 את יחס הרזרבה.
← חל עירווי **חיצוני** חיובי שהגדיל פי 2 את הרזרבות של הבנקים.
כתוצאה מכך:

- א. כמות הכסף לא תשתנה.
- ב. כמות הכסף תגדל.
- ג. בסיס הכסף לא ישתנה.
- ד. סכום ההלוואות של הבנקים לציבור לא ישתנה.

שאלה 8

יחס הרזרבה כנגד פקדונות עו"ש 0.25. הציבור הגדיל את המזומן שבידיו ב- 500 ש"ח.
והבנק המרכזי קנה אג"ח מהציבור ב- 1000 ש"ח. כתוצאה מכך:

- א. כמות הכסף תגדל ב- 2,500 ש"ח.
- ב. בסיס הכסף יגדל ב- 1,500 ש"ח.
- ג. פיקדונות העו"ש לא ישתנו.
- ד. רזרבות הבנקים יגדלו ב 1,000 ש"ח.
- ה. טענות א' וב' נכונות.

שאלה 9

יחס הרזרבה כנגד פקדונות עו"ש 0.2. הציבור הקטין את אחזקותיו במזומן ב- 500 ש"ח.

הבנק המרכזי מעוניין לשמור על כמות כסף קבועה. לשם כך עליו:

- א. לרכוש אג"ח מהציבור בסך 400 ש"ח.
- ב. למכור אג"ח לציבור בסך 400 ש"ח.
- ג. לרכוש אג"ח מהציבור בסך 500 ש"ח.
- ד. למכור אג"ח לציבור בסך 500 ש"ח.
- ה. להקטין את יחס הרזרבה בשיעור מסוים.

שאלה 10

יחס הרזרבה כנגד פקדונות עו"ש 0.25. עקב הירידה במספר בתי העסק המקבילים המחאות (צ'קים), הציבור הגדיל את אחזקותיו במזומן ב- 1000 ש"ח.

הבנק המרכזי מעוניין לשמור על כמות כסף קבועה. לשם כך עליו:

- א. לרכוש אג"ח מהציבור בסך 750 ש"ח.
- ב. למכור אג"ח לציבור בסך 1000 ש"ח.
- ג. לרכוש אג"ח מהציבור בסך 1000 ש"ח.
- ד. למכור אג"ח לציבור בסך 750 ש"ח.
- ה. כל התשובות האחרות אינן נכונות.

שאלה 11

יחס הרזרבה כנגד פקדונות עו"ש 0.5. עקב הגידול במספר בתי העסק המכבדים כרטיסי אשראי, הציבור הפקיד בבנק 8000 והקטין אחזקותיו במזומן.

הבנק המרכזי מעוניין לשמור על כמות כסף קבועה. לשם כך עליו:

- א. לרכוש אג"ח מהציבור בסך 4000 ש"ח.
- ב. למכור אג"ח לציבור בסך 8000 ש"ח.
- ג. למכור אג"ח לציבור בסך 4000 ש"ח.
- ד. לרכוש אג"ח מהציבור בסך 8000 ש"ח.
- ה. להקטין את יחס הרזרבה בשיעור מסוים.

שאלה 12

יחס הרזרבה כנגד פקדונות עו"ש 0.4. הציבור החליט להגדיל את אחזקותיו במזומן ב-1500 ש"ח.

הבנק המרכזי מעוניין לשמור על כמות כסף קבועה. לשם כך עליו:

- א. לרכוש אג"ח מהציבור בסך 1500 ש"ח.
- ב. למכור אג"ח לציבור בסך 1500 ש"ח.
- ג. לרכוש אג"ח מהציבור בסך 900 ש"ח.
- ד. למכור אג"ח לציבור בסך 900 ש"ח.
- ה. כל התשובות האחרות אינן נכונות.

שאלה 13

ידועים הנתונים הבאים: יחס הרזרבה כנגד פיקדונות עו"ש-0.25. הרזרבות של הבנקים 5,000 ש"ח. ידוע שהציבור מחזיק כמות מזומן קבועה. כתוצאה מפדיון של אג"ח, חל עירווי חיצוני חיובי בסך 3000 ש"ח. הבנק המרכזי מעוניין לשמור על כמות הכסף קבועה ע"י קביעת יחס רזרבה חדש.

יחס הרזרבה החדש יהיה:

- א. אין צורך בשינוי יחס הרזרבה
- ב. 0.4
- ג. 0.5
- ד. 0.6
- ה. 1/3

שאלה 14

להלן נתונים על מערכת בנקאות במשק: יחס הרזרבה כנגד פיקדונות עו"ש-0.25. הציבור נוהג להחזיק 1 ש"ח במזומן על כל 4 ש"ח בעובר ושב. כעת הממשלה פודה אג"ח מן הציבור בסך 1000. מה יקרה לכמות הכסף?

- א. כמות הכסף תגדל ב 4000.
- ב. כמות הכסף תגדל ב 2500.
- ג. כמות הכסף תקטן ב 4000.
- ד. ההלוואות לציבור תגדלנה ב 1000.

שאלה 15

להלן נתונים על מערכת הבנקאות במשק:

יחס הרזרבה – 0.25 והציבור נוהג להחזיק תמיד 2 ש"ח בחשבון עו"ש לכל 1 ש"ח שהוא מחזיק במזומן. הבנק המרכזי מכר לציבור אג"ח בסך 120 מיליון ש"ח. כתוצאה מכך:

- א. כמות הכסף תקטן ב- 120 מיליון ש"ח.
- ב. המזומן בידי הציבור יקטן ב- 80 מיליון ש"ח.
- ג. הרזרבות של הבנקים יקטנו ב- 120 מיליון ש"ח.
- ד. ההלוואות של הבנקים לציבור יקטנו ב- 60 מיליון ש"ח.
- ה. כל התשובות לעיל אינן נכונות.

שאלה 16

להלן נתונים הידועים על מערכת הבנקאות :

כמות הכסף שווה ל- 100,000 ש"ח. בסיס הכסף 40,000 ש"ח.

יחס הרזרבה המינימלי כנגד פיקדונות עו"ש 0.2.

מכאן ניתן להסיק, כי :

א. ההלוואות של הבנקים לציבור הן בסך 50,000 ש"ח.

ב. הרזרבות של הבנקים הן בסך 30,000 ש"ח.

ג. המזומן שבידי הציבור שווה ל- 25,000 ש"ח.

ד. פקדונות עו"ש הם 80,000 ש"ח.

שאלה 17

להלן נתונים על מערכת הבנקאות במשק :

יחס הרזרבה – 0.25 והציבור נוהג להחזיק תמיד יחס קבוע בין חשבון עו"ש למזומן

שהוא מחזיק בידיו. הרזרבה של הבנקים 500 מיליון ש"ח ובסיס הכסף הוא 1500

מיליון ש"ח. הבנק המרכזי מכר לציבור אג"ח בסך 1200 מיליון ש"ח. כתוצאה מכך :

א. כמות הכסף תגדל ב- 2400 מיליון ש"ח.

ב. המזומן בידי הציבור יקטן ב- 1000 מיליון ש"ח.

ג. הרזרבות של הבנקים יקטנו ב- 1200 מיליון ש"ח.

ד. ההלוואות של הבנקים לציבור יקטנו ב- 600 מיליון ש"ח.

ה. כל התשובות לעיל אינן נכונות.

שאלה 18

להלן נתונים על מערכת הבנקאות במשק:

יחס הרזרבה כנגד פקדונות עו"ש – 0.2. פקדונות העו"ש – 10,000. הציבור נוהג להחזיק 1 ש"ח במזומן על כל 2 ש"ח בעובר ושב. ידוע שהבנקים המסחריים נמצאים בגירעון של 500 ברזרבה. מכאן נובע כי:

- א. גודל הרזרבה בפועל הוא 2,000 ;
- ב. בסיס הכסף הוא 6500 ;
- ג. ההלוואות לציבור הן 8000 ;
- ד. מזומן בידי הציבור 6,000.

פרק 12

מודל קיינס עם שוק הכסף במשק סגור (המודל המשולב) שאלות:

הנחות יסוד לפרק זה (אלא אם נאמר אחרת):

הביקוש לכסף מושפע משער הריבית ומרמת התוצר.

הצריכה הפרטית מושפעת מרמת התוצר ומשער הריבית. השפעת התוצר חזקה יותר.

ההשקעות מושפעות מרמת התוצר ומשער הריבית. השפעת שער הריבית חזקה יותר.

שאלה 1

משק סגור מצוי באבטלה. הנח מודל קיינס. ידוע כי שוק הכסף פעיל. הצריכה הפרטית תלויה רק בהכנסה הפנויה. ההשקעות תלויות רק בשער הריבית. הממשלה מגדילה את הצריכה הציבורית בגודל הפער הדיפלציוני ומממנת ע"י מלווה מן הציבור (מכירת אג"ח לציבור). מכאן ש:

א. התוצר, הצריכה הפרטית וההשקעות יגדלו.

ב. התוצר והצריכה הפרטית יגדלו וההשקעות יקטנו.

ג. התוצר, הצריכה הפרטית וההשקעות יקטנו.

ד. המשק יגיע לתעסוקה מלאה.

שאלה 2

משק סגור מצוי באבטלה. הנח מודל קיינס. ידוע כי שוק הכסף פעיל. הצריכה הפרטית תלויה רק בהכנסה הפנויה. ההשקעות תלויות רק בשער הריבית. הממשלה מגדילה את הצריכה הציבורית ושוקלת שתי שיטות למימון:

1. מלווה מן הציבור (מכירת אג"ח לציבור).

2. הטלת מיסים קבועים.

מכאן ש:

- א. בשיטה הראשונה, הצריכה הפרטית תגדל ובשיטה השנייה הצריכה הפרטית תקטן.
- ב. בשיטה הראשונה, ההשקעות יגדלו ובשיטה השנייה ההשקעות יקטנו.
- ג. בשיטה הראשונה, התוצר יגדל ובשיטה השנייה התוצר יקטן.
- ד. בשיטה הראשונה, המשק יגיע לתעסוקה מלאה ובשיטה השנייה המשק יישאר באבטלה.

שאלה 3

משק סגור מצוי באבטלה. הנח מודל קיינס. ידוע כי שוק הכסף פעיל. הצריכה הפרטית תלויה רק בהכנסה הפנויה. ההשקעות תלויות רק בשער הריבית. הממשלה מגדילה את הצריכה הציבורית בגודל הפער הדיפלציוני ומממנת ע"י מלווה מן הבנק המרכזי (הדפסת כסף). מכאן ש:

- א. התוצר, הצריכה הפרטית וההשקעות יגדלו.
- ב. התוצר והצריכה הפרטית יגדלו וההשקעות יקטנו.
- ג. התוצר, הצריכה הפרטית יגדלו ולא ניתן לדעת מה יקרה להשקעות.
- ד. המשק יגיע לתעסוקה מלאה.

שאלה 4

משק סגור מצוי באבטלה. הנח מודל קיינס. ידוע כי שוק הכסף פעיל. הצריכה הפרטית תלויה רק בהכנסה הפנויה. ההשקעות תלויות רק בשער הריבית. הממשלה מגדילה את הצריכה הציבורית בגודל הפער הדיפלציוני ומממנת ע"י מלווה מן הבנק המרכזי (הדפסת כסף). מכאן ש :

- א. שער הריבית יעלה.
- ב. שער הריבית לא ישתנה.
- ג. שער הריבית לא יכול לרדת.
- ד. המשק יגיע בוודאות לתעסוקה מלאה.

שאלה 5

משק סגור מצוי באבטלה. הנח מודל קיינס. הביקוש לכסף תלוי ברמת התוצר. הצריכה הפרטית וההשקעות תלויות בשער הריבית. הממשלה מחליטה להגדיל את תשלומי ההעברה בגודל הפער הדיפלציוני. מכאן ש :

- א. התוצר, הצריכה הפרטית וההשקעות יגדלו.
- ב. טענה א' נכונה, אם הבנק המרכזי שומר תמיד על שער ריבית קבוע.
- ג. התוצר והצריכה הפרטית יגדלו וההשקעות יקטנו רק אם הביקוש לכסף אינו תלוי בתוצר.
- ד. המשק יגיע לתעסוקה מלאה.

שאלה 6

משק סגור מצוי באבטלה. הנח מודל קיינס. הביקוש לכסף תלוי ברמת התוצר. הצריכה הפרטית וההשקעות תלויות בשער הריבית. הבנק המרכזי מחליט להקטין את יחס הרזרבה הדרוש כנגד פיקדונות עו"ש. מכאן ש :

- א. התוצר, הצריכה הפרטית וההשקעות יגדלו.
- ב. טענה א' נכונה, רק אם הבנק המרכזי שומר תמיד על שער ריבית קבוע.
- ג. התוצר, הצריכה הפרטית וההשקעות יקטנו רק אם הביקוש לכסף אינו תלוי בתוצר.
- ד. המשק יגיע לתעסוקה מלאה.

שאלה 7

משק סגור מצוי בתעסוקה מלאה. הנח מודל קיינס. ידוע כי שוק הכסף פעיל. הממשלה מגדילה את הצריכה הציבורית בסך של 100 מיליון ש"ח ומממנת ע"י מלווה מן הציבור (מכירת אג"ח לציבור). מכאן ש :

- א. הצריכה הפרטית וההשקעות יקטנו יחד בסך 100 מיליון ₪.
- ב. התוצר והצריכה הפרטית יגדלו וההשקעות יקטנו.
- ג. אם הצריכה הפרטית תלויה רק בהכנסה הפנויה, ההשקעות יקטנו בסך של 100 מיליון ₪.
- ד. טענות א' וג' נכונות.

שאלה 8

משק סגור מצוי בתעסוקה מלאה. הנח מודל קיינס. ידוע כי שוק הכסף פעיל. הממשלה מגדילה את הצריכה הציבורית בסך של 100 מיליון ש"ח ומממנת הטלת מיסים קבועים. ידוע שהנטייה השולית לצרוך מתוך ההכנסה הפנויה שווה 0.6. מכאן ש :

- א. הצריכה הפרטית וההשקעות יקטנו יחד בפחות מסך של 100 מיליון ₪.
- ב. אם הצריכה הפרטית תלויה רק בהכנסה הפנויה, ההשקעות יקטנו בסך של 40 מיליון ₪.
- ג. טענות א' וב' נכונות.
- ד. אם הצריכה הפרטית תלויה רק בהכנסה הפנויה, ההשקעות יקטנו בסך של 100 מיליון ₪.

שאלה 9

משק סגור מצוי בתעסוקה מלאה. הנח מודל קיינס. הביקוש לכסף תלוי ברמת התוצר. הצריכה הפרטית וההשקעות תלויות בשער הריבית. הבנק המרכזי נוקט במדיניות מוניטרית מרחיבה וקונה אגרות חוב מן הציבור. מכאן ש :

- א. התוצר, הצריכה הפרטית וההשקעות יגדלו.
- ב. לא יחול שינוי ריאלי במשק.
- ג. רמת המחירים תעלה באותו שיעור גידול של כמות הכסף.
- ד. טענות ב' וג' נכונות.
- ה. כמות הכסף הריאלית תגדל ושער הריבית יירד.

שאלה 10

משק סגור מצוי בתעסוקה מלאה. הנח מודל קיינס. הביקוש לכסף תלוי ברמת התוצר. הצריכה הפרטית וההשקעות תלויות בשער הריבית. הבנק המרכזי נוקט במדיניות מוניטרית מצמצמת ומוכר אגרות חוב לציבור. מכאן ש:

- א. התוצר, הצריכה הפרטית וההשקעות יקטנו.
- ב. לא יחול שינוי ריאלי במשק.
- ג. רמת המחירים תרד באותו שיעור קיטון של כמות הכסף.
- ד. טענות ב' וג' נכונות.
- ה. השינוי יהיה זהה לשינוי במדיניות מוניטרית מרחיבה רק בכיוון הפוך.

שאלה 11

משק סגור מצוי בתעסוקה מלאה. הנח מודל קיינס. הצריכה הפרטית אינה תלויה בשער הריבית. ההשקעות תלויות בשער הריבית. הממשלה מגדילה את הצריכה הציבורית בסך של 8 מיליארד ₪ ומממנת ע"י מלווה מן הבנק המרכזי (הדפסת כסף). ידוע כי כמות הכסף גדלה בשיעור של 4%. מכאן ש:

- א. הצריכה הפרטית וההשקעות יקטנו בסך של 8 מיליארד.
- ב. ההשקעות יקטנו בסך של 8 מיליארד.
- ג. התוצר במשק יגדל.
- ד. רמת המחירים לא תשתנה.

שאלה 12

משק סגור מצוי בתעסוקה מלאה. הנח מודל קיינס. הצריכה הפרטית אינה תלויה בשער הריבית. ההשקעות תלויות בשער הריבית. הממשלה מגדילה את הצריכה הציבורית בסך של 8 מיליארד ₪ ומממנת ע"י מלווה מן הבנק המרכזי (הדפסת כסף). ידוע כי כמות הכסף גדלה בשיעור של 4%.

- א. שער הריבית בשיווי משקל יירד בגלל הגידול בכמות הכסף.
- ב. היצע הכסף הריאלי לא ישתנה.
- ג. רמת המחירים תעלה ב 4%.
- ד. רמת המחירים תעלה ביותר מ 4%.

שאלה 13

משק סגור מצוי באבטלה. ידוע כי שוק הכסף פעיל. הממשלה נוקטת במדיניות פיסקלית מרחיבה על מנת לצמצם את האבטלה במדינה. מדיניות זו תהיה יעילה יותר ככל ש :

- א. הביקוש לכסף רגיש יותר לשינויים ברמת התוצר.
- ב. הביקוש להשקעות רגיש יותר לשינויים בשער הריבית.
- ג. הצריכה הפרטית רגישה פחות לשינויים בשער הריבית.
- ד. כל הטענות האחרות אינן נכונות.

שאלה 14

משק סגור מצוי באבטלה. הנח מודל קיינס. ידוע כי שוק הכסף פעיל. הבנק המרכזי נוקט במדיניות מוניטרית מרחיבה (מגדיל את כמות הכסף) על מנת לצמצם את האבטלה במדינה. מדיניות זו תהיה יעילה יותר ככל ש :

- א. הביקוש לכסף רגיש יותר לשינויים ברמת התוצר.
- ב. הביקוש להשקעות רגיש יותר לשינויים בשער הריבית.
- ג. הצריכה הפרטית רגישה פחות לשינויים בשער הריבית.
- ד. כל הטענות האחרות אינן נכונות.

שאלה 15

משק סגור מצוי בתעסוקה מלאה. הנח מודל קיינס. הממשלה נוקטת במדיניות פיסקלית מרחיבה (למשל, מגדילה את הצריכה הציבורית ומממנת ע"י מכירת אג"ח לציבור). מדיניות זו תגרום לעליית מחירים גבוהה יותר ככל ש :

- א. הביקוש לכסף רגיש יותר לשינויים ברמת התוצר.
- ב. הביקוש להשקעות רגיש יותר לשינויים בשער הריבית.
- ג. הצריכה הפרטית רגישה פחות לשינויים בשער הריבית.
- ד. כל הטענות האחרות אינן נכונות.

שאלה 16

משק סגור מצוי בתעסוקה מלאה. הנח מודל קיינס. הבנק המרכזי נוקט במדיניות מוניטרית מרחיבה (מגדיל את כמות הכסף). מדיניות זו תגרום לעליית מחירים גבוהה יותר ככל ש:

- א. הביקוש לכסף רגיש יותר לשינויים ברמת התוצר.
- ב. הביקוש להשקעות רגיש יותר לשינויים בשער הריבית.
- ג. הצריכה הפרטית רגישה פחות לשינויים בשער הריבית.
- ד. כל הטענות האחרות אינן נכונות.

שאלה 17

משק סגור מצוי באבטלה. הנח מודל קיינס. ידוע כי שוק הכסף פעיל. הצריכה הפרטית תלויה רק בהכנסה הפנויה. ההשקעות תלויות רק בשער הריבית. הממשלה מגדילה את ההשקעה הציבורית בסך של 100 מיליון ₪ ומממנת ע"י מלווה מן הציבור (מכירת אג"ח לציבור).

- א. הצריכה הפרטית וההשקעות יקטנו.
- ב. ההשקעות הפרטיות יקטנו בסך של 100 מיליון ₪.
- ג. ההשקעה הכוללת במשק לא תשתנה.
- ד. טענות ב' וג' נכונות.
- ה. כל הטענות האחרות אינן נכונות.

שאלה 18

משק סגור מצוי בתעסוקה מלאה. הנח מודל קיינס. ידוע כי שוק הכסף פעיל. הצריכה הפרטית תלויה רק בהכנסה הפנויה. ההשקעות תלויות רק בשער הריבית. הממשלה מגדילה את ההשקעה הציבורית בסך של 100 מיליון ₪ ומממנת ע"י מלווה מן הציבור (מכירת אג"ח לציבור).

- א. הצריכה הפרטית וההשקעות יקטנו.
- ב. ההשקעות הפרטיות יקטנו בסך של 100 מיליון ₪.
- ג. ההשקעה הכוללת במשק לא תשתנה.
- ד. טענות ב' וג' נכונות.
- ה. כל הטענות האחרות אינן נכונות.

שאלה 19

משק סגור מצוי בתעסוקה מלאה. הנח מודל קיינס. ידוע כי שוק הכסף פעיל. הממשלה נותנת לפירמות הפרטיות תמריצים להגדלת ההשקעות. עקב כך, הפירמות מחליטות להגדיל את השקעותיהן בסך של 500 מיליון ₪ בכל רמת תוצר.

- א. הצריכה הפרטית תקטן וההשקעות יגדלו.
- ב. ההשקעות יגדלו בסך של 500 מיליון ₪.
- ג. ההשקעה במשק לא תשתנה.
- ד. שער הריבית לא ישתנה.
- ה. כל הטענות האחרות אינן נכונות.

שאלה 20

משק סגור מצוי בתעסוקה מלאה. הנח מודל קיינס. ידוע כי שוק הכסף פעיל. הממשלה מגדילה את תשלומי ההעברה בסך של 500 מיליון ₪. הנטייה השולית לצרוך שווה 0.8.

- א. הצריכה הפרטית תגדל בסך של 400 מיליון ש"ח וההשקעות יקטנו באותה מידה.
- ב. הצריכה הפרטית לא תשתנה.
- ג. הצריכה הפרטית תגדל בסך של 500 מיליון ש"ח וההשקעות יקטנו באותה מידה.
- ד. שער הריבית לא ישתנה.
- ה. כל הטענות האחרות אינן נכונות.

שאלה 21

ידועים הנתונים הבאים על משק מסוים :

מקרא : MS – כמות הכסף הנומינלית, MD – הביקוש לכסף, P – רמת המחירים במשק

$$C = 5000 + 0.6Yd - 20r$$

$$I = 1500 + 0.15Y - 30r$$

$$G = 4600$$

$$T = 1000$$

$$Ms = 12000$$

$$Md = 2000 + 0.3Y - 200r$$

$$P = 1$$

$$YF = 42000$$

- א. התוצר בשיווי משקל הוא 40,000 ושער הריבית 10%.
- ב. התוצר בשיווי משקל הוא 40,000 ושער הריבית 15%.
- ג. התוצר בשיווי משקל הוא 80,000 ושער הריבית 10%.
- ד. התוצר בשיווי משקל הוא 60,000 ושער הריבית 12%.

שאלה 22

בנתוני השאלה הקודמת :

- א. הגדלת הצריכה הציבורית בסך של 500 במימון מיסים תביא את המשק לתעסוקה מלאה.
- ב. הגדלת כמות הכסף ב- 2000 תביא את המשק לתעסוקה מלאה.
- ג. הקטנת המיסים ב 50% תביא את המשק לתעסוקה מלאה.
- ד. כל הטענות האחרות אינן נכונות.

פרק 13

מאזן התשלומים ושוק מטבע חוץ שאלות:

מאזן התשלומים

שאלה 1

בשנה האחרונה בוצעו העסקאות הבאות:

- חברה ישראלית מכרה סחורה לחו"ל בשווי 100 מיליון דולר. התמורה התקבלה במזומן.
 - ממשלת ישראל קיבלה מארה"ב ציוד צבאי בשווי 300 מיליון דולר. מחצית ניתן כמענק ומחצית כמלווה לטווח ארוך.
 - חברת פרסום בינלאומית רכשה מחצית מסוכנות פרסום ישראלית בסך של 20 מיליון דולר במזומן.
- א. הגירעון בחשבון סחורות ושירותים במאזן התשלומים קטן ב 100 מיליון דולר.
ב. הגירעון בחשבון השוטרף במאזן התשלומים גדל ב 50 מיליון דולר.
ג. יתרות המט"ח גדלו ב 100 מיליון דולר.
ד. מאזן התשלומים אינו מאוזן בגלל המענק, אשר תמורתו לא שולמה במזומן.

שאלה 2

בשנה האחרונה בוצעו העסקאות הבאות:

- חברה ישראלית קנתה סחורה מחו"ל בשווי 100 מיליון דולר. התמורה שולמה מחצית במזומן ומחצית באשראי לטווח קצר.
- ממשלת ישראל קיבלה מארה"ב 3 מטוסי קרב בשווי 250 מיליון דולר במתנה.
- א. הגירעון בחשבון סחורות ושירותים במאזן התשלומים גדל ב 350 מיליון דולר.
- ב. הגירעון בחשבון השוטף במאזן התשלומים גדל ב 350 מיליון דולר.
- ג. יתרות המט"ח גדלו ב 100 מיליון דולר.
- ד. טענות ב' וג' נכונות.

שאלה 3

חברה ישראלית פרעה חובות (תשלום קרן) בסך 50 מיליון דולר לבנקים בשוויץ. ובנוסף, שילמה ריבית על ההלוואה בסך 2 מיליון דולר.

- א. הגירעון בחשבון סחורות ושירותים במאזן התשלומים גדל ב 50 מיליון דולר.
- ב. הגירעון בחשבון השוטף במאזן התשלומים גדל ב 52 מיליון דולר.
- ג. יתרות המט"ח גדלו ב 52 מיליון דולר.
- ד. כל הטענות האחרות אינן נכונות.

שאלה 4

חברה ישראלית רכשה חברה אמריקאית בסך של 50 מיליון דולר בתחילת השנה, וקיבלה דיבידנד (חלוקת רווחים) כעבור מספר חודשים בסך של 4 מיליון דולר.

- א. הגירעון בחשבון סחורות ושירותים במאזן התשלומים גדל ב 50 מיליון דולר.
- ב. הגירעון בחשבון השוטף במאזן התשלומים ירד ב 4 מיליון דולר.
- ג. יתרות המט"ח קטנו ב 46 מיליון דולר.
- ד. טענות ב' וג' נכונות.

שאלה 5

חקלאי ישראלי שילם לעובדיו הזרים משכורות בסך 500 אלף דולר. העובדים הזרים ביצעו רכישות של סחורות בשווי 200 אלף דולר ושלחו לקרוביהם בחו"ל.

- א. הגירעון בחשבון סחורות ושירותים במאזן התשלומים גדל ב 300 אלף דולר.
- ב. הגירעון בחשבון השוטף במאזן התשלומים גדל ב 500 אלף דולר.
- ג. יתרות המט"ח קטנו ב 300 אלף דולר.
- ד. טענות א' וג' נכונות.

שאלה 6

בשנה האחרונה בוצעו העסקאות הבאות:

- הסניף של חברה ישראלית בארה"ב נתן ייעוץ בשווי 10 מיליון דולר לחברה אמריקאית.
 - ממשלת ישראל שלחה צוותים וסיוע רפואי בשווי 5 מיליון דולר בעקבות רעידת אדמה למדינה זרה.
 - חברה ישראלית לוותה 20 מיליון דולר מבנק שוויצרי.
- א. הגירעון בחשבון סחורות ושירותים במאזן התשלומים קטן ב 15 מיליון דולר.
ב. הגירעון בחשבון השוטף במאזן התשלומים קטן ב 10 מיליון דולר.
ג. יתרות המט"ח קטנו ב 10 מיליון דולר.
ד. טענות א' וב' נכונות.

שאלה 7

להלן נתונים אודות מאזן התשלומים בשנה האחרונה:

- הגירעון בחשבון סחורות ושירותים גדל ב 10 מיליון דולר.
- העברות חד צדדיות נטו היו 6 מיליון דולר.
- יתרת ההלוואות של המשק גדלה ב 8 מיליון דולר.
- המשק לא נתן הלוואות ולא קיבל החזרי הלוואות.
- השקעות זרים בארץ נטו היו בסך 6 מיליון דולר.

- א. יתרות המט"ח קטנו ב 10 מיליון דולר.
ב. יתרות המט"ח גדלו ב 10 מיליון דולר.
ג. יתרות המט"ח לא השתנו.
ד. כל הטענות האחרות אינן נכונות.

שאלה 8

להלן נתונים מתוך מאזן התשלומים:

- המשק לקח הלוואות בסך 40
- המשק נתן הלוואות בסך 20
- המשק החזיר הלוואות בסך 38
- המשק קיבל החזרי הלוואות בסך 15
- יתרות המט"ח גדלו ב 20.

מכאן נובע כי:

- א. החוב החיצוני ברוטו גדל ב – 20 והחוב החיצוני נטו לא השתנה.
- ב. החוב החיצוני ברוטו גדל ב – 2 והחוב החיצוני נטו קטן ב 23.
- ג. החוב החיצוני ברוטו גדל ב – 20 והחוב החיצוני נטו קטן ב 23.
- ד. החוב החיצוני ברוטו גדל ב – 20 והחוב החיצוני נטו קטן ב 3.

שאלה 9

להלן נתונים מתוך מאזן התשלומים בשנה האחרונה:

- הגירעון בחשבון סחורות ושירותים גדל ב 50 מיליון דולר.
- לא היו כל העברות חד צדדיות.
- השקעות זרים בארץ נטו היו בסך 50 מיליון דולר.

- א. יתרות המט"ח קטנו.
- ב. יתרות המט"ח גדלו.
- ג. החוב החיצוני נטו לא השתנה.
- ד. החוב החיצוני ברוטו לא השתנה.

חלק ב' - תרגילים בשוק מטבע חוץ

שאלה 1

במשק המצוי בשיווי משקל באבטלה נהוג משטר שער חליפין נייד עם תנועות הון חופשיות. להלן מספר טענות:

- א. הייבוא תמיד שווה לייצוא.
- ב. עליית שער הריבית המקומית יביא לירידה בתנועות ההון הנכנסות.
- ג. עליית שער הריבית המקומית יביא לגידול בייבוא.
- ד. עליית שער הריבית המקומית יביא לגידול בייצוא.

שאלה 2

במשק המצוי בשיווי משקל באבטלה נהוג משטר שער חליפין נייד עם תנועות הון חופשיות. הממשלה הגדילה את הוצאותיה במימון מלווה מהציבור. להלן מספר טענות:

- א. פעולת הממשלה תגרום לעליית שער החליפין.
- ב. הייבוא יגדל והייצוא יקטן.
- ג. עליית שער הריבית המקומית תביא להשפעה זהה.
- ד. הגדלת הוצאות הממשלה במימון של הטלת מיסים הייתה מביאה לתוצאות הפוכות.

שאלה 3

משק מצוי בשיווי משקל באבטלה. במשק נהוג משטר שער חליפין נייד עם תנועות הון חופשיות. הנגיד האמריקאי העלה את שער הריבית. כתוצאה מכך:

- א. יחול גידול בעודף הייבוא ושער החליפין יעלה
- ב. יחול קיטון בעודף הייבוא והפער הדיפלציוני יצטמצם.
- ג. הצריכה הפרטית לא תושפע משינוי זה.
- ד. יחול גידול בהעברות חד צדדיות.

שאלה 4

משק מצוי בשיווי משקל באבטלה. במשק נהוג משטר שער חליפין נייד עם תנועות הון חופשיות. במשק חל גידול בתוצר. כתוצאה מכך:

- א. שער החליפין ירד והייבוא יגדל.
- ב. יחול קיטון בעודף הייבוא והפער הדיפלציוני יצטמצם.
- ג. יהיה גידול בתנועות ההון הנכנסות.
- ד. שער החליפין יעלה ולא יחול שינוי בעודף הייבוא.

שאלה 5

משק מצוי בשיווי משקל באבטלה. במשק נהוג משטר שער חליפין נייד עם תנועות הון חופשיות. במשק חל גידול בתוצר במקביל לעלייה בשער הריבית המקומי. כתוצאה מכך:

- א. יחול גידול בעודף הייבוא ושער החליפין יעלה
- ב. יחול קיטון בעודף הייבוא והפער הדיפלציוני יצטמצם.
- ג. לא ניתן לדעת מה יקרה לשער החליפין והייצוא, אך הייבוא ועודף הייבוא יגדלו בהכרח.
- ד. כל הטענות האחרות אינן נכונות.

שאלה 6

משק מצוי בשיווי משקל באבטלה. במשק נהוג משטר שער חליפין נייד עם תנועות הון חופשיות. במשק חל קיטון בתוצר במקביל לעלייה בשער הריבית המקומי. כתוצאה מכך:

- א. יחול גידול בעודף הייבוא ושער החליפין יעלה
- ב. יחול קיטון בעודף הייבוא ושער החליפין ירד
- ג. לא ניתן לדעת מה יקרה לשער החליפין והייצוא, אך הייבוא ועודף הייבוא יגדלו בהכרח.
- ד. לא ניתן לדעת מה יקרה לייבוא, אך הייצוא יקטן ועודף הייבוא יגדל.

שאלה 7

משק מצוי בשיווי משקל באבטלה עם משטר של שער חליפין נייד. באיזה מהמיקרים הבאים יירד שער החליפין?

- א. הציבור צופה תיסוף בשער החליפין.
- ב. הריבית בארץ עלתה ב 1% והריבית בחו"ל עלתה ב 2%.
- ג. רמת המחירים בארץ עלתה ב 3% ורמת המחירים בחו"ל עלתה ב 2%.
- ד. רמת הסיכון של מדינת ישראל עלתה ודירוג האשראי שלה ירד.
- ה. התוצר העולמי קטן.

שאלה 8

בשנים 2010-2011 רכש הנגיד הישראלי סטנלי פישר כמויות גדולות של דולרים, על מנת לגרום לעלייה בשער הדולר. פעולה זו:

- א. מקטינה את היצע הכסף המקומי.
- ב. מגדילה את עודף הייבוא.
- ג. פועלת לטובת היצואנים והצמיחה במשק.
- ד. מקטינה את הצמיחה במשק, כי שקל חלש רע למדינה.

שאלה 9

להלן מספר טענות לגבי שוק מטבע חוץ:

- א. במשטר שער חליפין נייד ייתכן עודף ביקוש למט"ח.
- ב. הגדלת העברות חד צדדיות למדינה (מענקים) תגרום לירידת שער החליפין במשטר שער חליפין נייד ושער חליפין קבוע.
- ג. במשק עם משטר שער חליפין נייד כל שינוי יוביל להתייצבות ע"י שינוי בשער החליפין.
- ד. במשטר שער חליפין קבוע כל שינוי יוביל להתייצבות ע"י שינוי בשער החליפין.

שאלה 10

להלן נתונים לגבי משק בשנה מסוימת:

$X=1,200+400(E/P)$	היצוא
$IM=1,500+0.3Y-600(E/P)$	היבוא
$TR=500$	העברות חד צדדיות
$Y=10,000$	התוצר בשיווי משקל
$CF=50(i-i^*)+300$	תנועות הון נכנסות
$i=10\%$	שער הריבית המקומי
$i^*=8\%$	שער הריבית העולמי

הרי מספר טענות:

- א. אם במשק יש משטר של שער חליפין נייד, אז שער החליפין בשיווי משקל הוא 2.5.
- ב. אם במשק יש משטר של שער חליפין נייד, אז העלאת הריבית המקומית ל 12%, תגרום לשער החליפין לרדת ל 2.1.
- ג. אם במשק יש משטר של שער חליפין קבוע הנקבע לרמה של 2 ₪ לדולר, אז יתרות המט"ח של המדינה יקטנו ב 400.
- ד. אם במשק יש משטר של שער חליפין קבוע הנקבע לרמה של 2 ₪ לדולר ובמשק היה חל איסור על תנועות הון, אזי יתרות המט"ח של המדינה יקטנו ב 900.

פרק 14

מודל קיינס במשק פתוח

שאלות:

התרגילים מופיעים בסרטונים

בהצלחה בבחינה